

# 臺北市 103 學年度市立國民中學正式教師聯合甄選

## 公民與道德科題本

請不要翻到次頁！

讀完本頁的說明，聽從監試委員的指示才開始作答

※請先確認你的答案卡、准考證與座位號碼是否一致無誤。

請閱讀以下測驗作答說明

測驗說明：

這是臺北市 103 年度市立國民中學正式教師聯合甄選公民與道德科題本，題本採雙面印刷，共 80 題，每題只有一個正確或最佳的答案。測驗時間共 100 分鐘，作答開始與結束請聽從監試委員的指示。

注意事項：

1. 所有試題均為四選一的選擇題，答錯不倒扣。
2. 依試場規則規定，答案卡上不得書寫姓名及任何標記。故意污損答案卡、損壞試題本，或在答案卡上顯示自己身份者，該科測驗不予計分。

作答方式：

請依照題意從四個選項中選出一個正確或最佳的答案，並用 2B 鉛筆在答案卡上相應的位置劃記，請務必將選項塗黑、塗滿。如果需要修改答案，請使用橡皮擦擦拭乾淨，重新塗黑答案。

請聽到鈴（鐘）聲響後再翻頁作答

# 新聞稿用卷

## 壹、教育專業科目

選擇題（共 40 題，每題 1 分，共 40 分）

1. 有關十二年國民基本教育免試入學之規定，下列哪一項是正確的？  
(1)103年度各就學區之總名額，應占核定招生總名額百分之七十五以上。  
(2)各校提供免試入學名額比率不得低於該校核定招生總名額百分之二十五。  
(3)學生報名人數未超過學校核定招生名額者，全額錄取，超過者，採抽籤方式錄取。  
(4)免試入學不得採計國中教育會考成績。  
(A)1和2 (B)1和3 (C)2和3 (D)3和4
2. 國民中學學生成績評量，依問題解決、技能、參與實踐及言行表現性目標，採書面報告、口頭報告、口語溝通、實際操作、作品製作、展演、行為觀察等方式，稱之為：  
(A)實作評量 (B)檔案評量 (C)紙筆測驗 (D)學習單
3. 下列哪一項是臺北市政府教育局推行多年的政策與評選活動？  
(A)優質學校 (B)卓越學校 (C)特色學校 (D)藍帶學校
4. 依「國民中小學中途輟學學生通報及復學輔導辦法」之規定，中輟生是指學生有未經請假、請假未獲准或不明原因未到校上課連續達幾日以上者？  
(A)一日以上者 (B)二日以上者 (C)三日以上者 (D)四日以上者。
5. 下列敘述哪一項不屬於「性別平等教育」的觀念？  
(A)性別主流化 (B)回歸主流 (C)設置性別友善廁所 (D)設置哺(集)乳室
6. 「教育之目的以培養人民健全人格、民主素養、法治觀念、人文涵養、愛國教育、鄉土關懷、資訊知能、強健體魄及思考、判斷與創造能力，並促進其對基本人權之尊重、生態環境之保護及對不同國家、族群、性別、宗教、文化之瞭解與關懷，使其成為具有國家意識與國際視野之現代化國民。」，係出自哪一項法規？  
(A)國民教育法 (B)高級中等教育法 (C)教育基本法 (D)憲法
7. 學校教育人員透過環境的安排，使學生經自然有利的氣氛而有積極正向的學習，此種「境教」屬於下列哪一項課程？  
(A)正式課程 (B)活動課程 (C)空白課程 (D)潛在課程
8. 「透過校園建築空間與環境的規劃、建置與運用，以促進教育意境、學校課程、教師教學、學生學習、行政管理和社區公關之提升」，是下列哪一項教育領導理論之論述？  
(A)轉型領導 (B)空間領導 (C)情境領導 (D)科技領導
9. 依艾瑞克森(E. H. Erikson)的心理社會發展論，國中學生的發展階段為何？  
(A)自動自發對退縮內疚 (B)勤奮努力對自貶自卑  
(C)自我統整對角色混淆 (D)完美無憾對悲觀絕望。
10. 教師對學生的期望低，也會造成學生自我期望低落，此稱之為：  
(A)刻板化 (stereotype) (B)聽眾效應 (audience effect)  
(C)月暈效應 (halo effect) (D)比馬龍效應 (pygmalion effect)
11. 依布魯姆(B.S. Bloom)的教學目標分類，下列認知領域的目標哪一項層次最高？  
(A)分析 (B)應用 (C)評鑑 (D)綜合

12. 齊勒 (T. Ziller) 和其弟子萊因 (W. Rein) 研究改進赫爾巴特 (J. F. Herbart) 的教學法，提出著名的「五段教學法」，其步驟依序為：
- (A)記憶、理解、應用、分析、綜合 (B)預備、提示、比較、總括、應用  
(C)明瞭、聯合、系統、方法、應用 (D)預備、提示、分析、綜合、應用
13. 下列哪一位撰寫「人類悟性論」，主張人類的心靈宛如白紙，一切觀念全由經驗而生？
- (A)洛克(J. Locke) (B)杜威(J. Dewey)  
(C)蘭開斯特(J. Lancaster) (D)斯普朗格(E. Spranger)
14. 張老師想探討該校八年級甲班和乙班學生以及男生、女生的數學成績是否有顯著差異，應使用下列哪一種統計方法？
- (A)t-考驗 (B)積差相關 (C)變異數分析 (D)迴歸分析。
15. 王老師在歷史課時都會鼓勵學生以不同的文化背景去思考事件中的人物，當時的感受或討論其複雜的動機，進而引導學生從其他角度看世界。請問王老師的教學策略可明顯促進學生哪項發展的變化？
- (A)觀點轉換 (perspective taking)  
(B)後設認知 (metacognition)  
(C)近側發展區 (zone-of-proximal-development)  
(D)自我調整 (self-regulation)
16. 蕭老師在講授國中歷史課程時，選定婦幼節當天介紹女性典範人物的故事，請問這是屬於多元文化課程發展中的哪種模式？
- (A)附加模式 (B)轉型模式 (C)貢獻模式 (D)社會行動模式
17. 學生課堂上玩手機，過去教師慣用「沒收」一途，現在最好改用何種做法較合法？
- (A)沒入 (B)暫時保管 (C)充公 (D)拍賣分享
18. 強調觀察、訪談、文件分析、專家判斷、辯論、批評或鑑賞等方式，然後以厚實的文字，來描述課程種種複雜的現象，進而對課程的優劣做價值判斷。此為何種課程評鑑？
- (A)量化 (B)質性 (C)內在標準 (D)外在標準
19. 請問以下哪一種教育措施是為了減少地區背景不利對教育的影響，所採取的「積極性差別待遇」(positive discrimination)？
- (A)廣設高中大學 (B)教師專業發展評鑑 (C)教育優先區 (D)學習共同體
20. 「真正認同多元文化教育的教師，必須要有能力在教學之中融入多元文化的精神」，請問下列哪一項不屬於文化回應教學(culturally responsive teaching)的特色？
- (A)為學生建立支持學習的社群 (B)以教師的母文化作為學習橋樑  
(C)重視差異性與共同性 (D)營造社會正義及民主公平的教室氣氛
21. 美國課程學者古德拉 (J. Goodlad) 將課程區分成五個不同層次，學生在班級教學後實際感受的課程，係指下列何者？
- (A)理念課程 (B)正式課程 (C)運作課程 (D)經驗課程
22. 確保學生充分學會單元中某一小單元的內容後，再進入後續單元的學習，藉此讓絕大多數的學生都能學會，此種方法的名稱為何？
- (A)協同教學法 (B)拼圖學習法 (C)精熟學習法 (D)練習教學法

23. 採行之輔導與管教措施，應與學生違規行為之情節輕重相當，這就是所謂的「比例原則」，請問其意涵不包括下列何者？
- (A)採取之措施應有助於目的達成
  - (B)違規行為之處罰應重視尊嚴，不可公開為之
  - (C)採取之措施所造成之損害不得與欲達成目的之利益顯失均衡
  - (D)有多種同樣能達成目的之措施時，應選擇對學生權益損害較少者
24. 心理學家吉莉庚（C. Gilligan）的主張，曾經對郭爾堡（L. Kohlberg）之道德發展理論提出批評，下列敘述何者正確？
- 甲、男性的道德判斷反映正義取向，認為道德共識是建立在將法律做為維護社會秩序之正確普遍原則上
  - 乙、女性進行道德推理採取關懷取向，強調經由關係溝通、展現合作與利他精神等尋求解決辦法
  - 丙、依據吉莉庚的主張，由於男女社會化經驗不同，年輕女性的道德發展通常停留在第三階段
  - 丁、目前大部分的研究均支持吉莉庚的主張，男女在道德推理有明顯的性別差異
- (A)丙丁 (B)甲乙丙 (C)乙丙丁 (D)甲乙丙丁
25. 英、美在1970年代興起的批判性（critical）教育社會學所帶來的主要貢獻，以下何者有誤？
- (A)開創知識社會學的新領域
  - (B)檢視過去被視為理所當然的命題或假設
  - (C)班級社會學成為研究重點
  - (D)強調教育現象的量化實證研究
26. 近年來全球化趨勢造成全球公民（global citizenship）概念的勃興，請問下列關於發展全球公民教育的敘述何者有誤？
- (A)以全球福祉角度思考與行事
  - (B)強調國家主權與國民身分認同
  - (C)解決全球社會不公義的問題
  - (D)重視對全人類的責任
27. 以下對「世界咖啡館」（world café）匯談規則的描述，何者有誤？
- (A)透過「匯談石」的運用，鼓勵成員提出個人的想法與經驗
  - (B)成員將自己所言所想，藉由塗鴉、繪圖、文字，呈現在桌布上
  - (C)回合議題討論時，不宜離桌移動，以便能專注討論
  - (D)回合之間的換桌，桌長請到其他桌，把本桌想法分享給其他參與者
28. 依據富勒（F. Fuller）的關注理論（concerns theory），教師的關注面向具發展性和持續性，對照教師專業發展評鑑的指標，下列何者是經驗豐富教師較為關注的面向？
- (A)說明學習目標或學習重點
  - (B)有組織條理呈現教材內容
  - (C)結合學生生活經驗
  - (D)板書正確、工整有條理
29. 黃校長運用校內的師資在差異化與活化教學上的專長，並配合十二年國民基本教育政策的推動，決定發展學校的教學特色，上述的考量較屬SWOT分析的哪一類？
- (A)S-O (B)S-T (C)W-O (D)W-T



30. 劉校長想採取一種經常、快速、短暫、有焦點的教學觀察方式，以瞭解班級中教與學的真實狀況，採取下列那一種方法較為適合？  
(A)知識領導 (B)授業研究 (C)教室走察 (D)全面品質管理
31. 教育計畫中經常使用的「計畫評核術」(PERT)，最重視的是下列何者的管理？  
(A)時間管理 (B)經費管理 (C)人力管理 (D)設備管理
32. 下列何者非差異化教學(differentiated instruction)課堂的特徵？  
(A)重視學生興趣 (B)運用彈性分組教學  
(C)設計多元化教材滿足學生需求 (D)對學生個體差異的忽略
33. 臺北市政府教育局針對「100-103學年公私立國民中學校務評鑑」的實施成效進行評估，以做為檢討與改進下一輪校務評鑑規劃之參考，此較屬下列何者評鑑？  
(A)追蹤評鑑 (B)回應評鑑 (C)對抗評鑑 (D)後設評鑑
34. 學校中的教師透過彼此間的省思對話與分享，將其「內隱知識」(tacit knowledge)轉化為「外顯知識」(explicit knowledge)的過程稱之為何？  
(A)社會化(socialization) (B)外部化(externalization)  
(C)結合化(combination) (D)內在化(internalization)
35. 臺北市幸福國中為了有效處理校園霸凌事件，特別擬訂「防制校園霸凌執行計畫」，其性質較屬下列何者？  
(A)策略性計畫 (B)運作式計畫 (C)問題解決計畫 (D)工作計畫
36. 梁校長鼓勵教師組成教師專業學習社群(PLC)，下列何者非教師專業學習社群的特徵？  
(A)個人責任 (B)共同願景 (C)成果產出 (D)合作共享
37. 強調永遠給孩子最好的教育內容或資源，不因成績或家境不好就降低教育內容與教學水準，是「學習共同體」哪一項哲學主張？  
(A)差異性 (B)民主性 (C)公共性 (D)卓越性
38. 下列何者非「協同學習」(collaborative learning)的特徵？  
(A)強調共同學習成長 (B)以學習小組為基本組織形式  
(C)善用小組間的競爭 (D)強調互相教導的關係
39. 臺北市推動十二年國民基本教育中，主張應強化校長課程教學領導責任，其具體作法不包括下列何項？  
(A)校長教室走察與觀課 (B)領導學校校本課程發展  
(C)帶領教師專業學習社群 (D)加強特色招生考試
40. 陳校長所領導的是一群有能力但卻沒意願參與校務的教師，依據Hersey 與Blanchard的情境領導理論，較適合採取下列何種領導方式？  
(A)高倡導高關懷 (B)低倡導高關懷 (C)低倡導低關懷 (D)高倡導低關懷

## 貳、公民與道德專業科目

選擇題（共 40 題，每題 1.5 分，共 60 分）

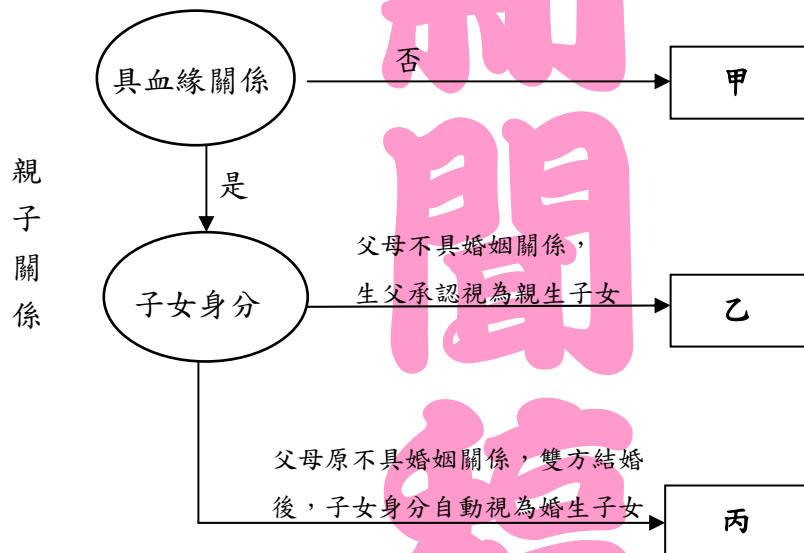
41. 請問：下圖示中的甲、乙、丙，依序分別代表何種親子關係？

(A)收養、認領、準正

(B)領養、準正、收養

(C)準正、收養、認領

(D)認領、收養、領養



42. 壓力團體是指「以各種方式對政府施壓，表達本身需求進而影響政府決策的團體。」

根據前述，下列有關壓力團體的敘述，何者較為正確？

(A)會利用各種方式影響政府決策，妨礙國家進步發展

(B)多數強調自利性的目的，欠缺公益性之社會性宗旨

(C)為一種非正式組織，且在其利益受影響時才會動員

(D)可以透過正式與非正式管道，表達意見並影響決策

43. 根據社會學家的研究，不同型態的社會具有不同階層化與社會流動形式，「社會流動」可分為「垂直社會流動」和「水平社會流動」。垂直社會流動是上、下階層間的縱向流動，水平社會流動是同一社會階層內的橫向流動。下列哪一種社會流動的敘述代表崇尚自由競爭與機會均等的開放社會？

(A)高度的代間垂直流動

(B)低度的代內水平流動

(C)高度的代間水平流動

(D)低度的代內垂直流動

44. 我國隨著平均壽命延長，出生率下降，老年人的人數和比例呈現顯著成長，早已邁入聯合國世界衛生組織所稱的高齡化社會，依據推估，至民國115年時，老年人口將占全國人口20%。而隨著社會變遷與家庭結構改變，家庭扶持老人之傳統功能漸趨式微，子女供養老人比例逐年下降，因此提供國民老年生活的經濟安全保障，已成為我國社會安全體系中重要之一環。有鑒於此，我國政府於民國97年10月1日開辦的社會保險制度為下列何者？

- (A)國民年金 (B)二代健保  
(C)軍公教年金改革 (D)勞保年金

45. 我國社會福利政策係基於憲法保障國民基本人權之精神，而民國98年立法院通過、並由總統簽署批准「經濟社會文化權利國際公約」及「公民與政治權利國際公約」兩項聯合國人權公約，更促進我國社會福利發展與國際接軌，謀求建立符合時代趨勢與民眾需要之社會福利體系。有關「政府應保障身心障礙者接受教育、就業、居住及醫療等權益，使其轉銜無礙，並應結合民間資源提供其支持服務、經濟安全、身體及財產保護。」是屬於哪一項社會福利政策的內涵？

- (A)社會保險 (B)福利服務  
(C)健康與醫療照護 (D)社會救助與津貼

46. 在我國政府與人民關係的憲政議題中，孫中山先生提出了「權能區分」的理念。下列有關權能區分的敘述，何者正確？

- (A)是一種「人民有權，政府有能」的憲政特質，將國家主權區分為政權和治權  
(B)政權包括行政、立法、司法、考試、監察權；治權則是選舉、罷免、創制、複決  
(C)政權是政府有充分的權力為民服務，治權是人民擁有充分的權利監督政府  
(D)廚師與食客、司機與乘客、劉備與諸葛亮，都是有關「權能區分」的比喻

47. 政府為維護交易秩序與消費者利益，確保公平競爭，促進經濟之安定與繁榮，特別制定《公平交易法》，下列何者「不是」《公平交易法》所規範的範圍？

- (A)定型化契約 (B)獨占、聯合行為  
(C)多層次傳銷 (D)不公平競爭

48.

過去在中古時期，英國的山谷村落中村民常利用山間的草地放牧牛羊，其中放牧者所要支付的成本包括購買牛羊的價款、放牧所付出的時間等，但是放牧所需要的草地卻是大家共有的財產，不必支付任何代價。這將刺激放牧者進一步積極擴大放牧活動，進而影響草原的復育功效，消耗過度，以致最後可能使草地寸草不生而廢棄。

上述「草場的悲劇」，是經濟學中的哪一個概念？

- (A)比較利益 (B)機會成本 (C)分散風險 (D)外部效果



49. 近期不論國內或是海外，各種型態的歌唱選秀節目在傳播媒體上大行其道，許多愛好歌唱及表演的年輕人紛紛投入其中，展現自我才華。甲、乙、丙三人引用包括精神分析學派創始人佛洛伊德（S.Freud）、美國社會學家顧里（C.Cooley）及社會心理學家米德（G.Mead）三位學者的理論解釋上述現象：

甲：在別人掌聲中，個人開始相信自己是個受歡迎的人

乙：透過參加比賽，人們得以滿足受人喜愛的潛在慾望

丙：在現在的社會，個人的行為常深受偶像明星所影響

請問：甲、乙、丙三人所引用的學者理論，依序應為何？

(A)佛洛伊德、顧里、米德

(B)顧里、佛洛伊德、米德

(C)米德、佛洛伊德、顧里

(D)米德、顧里、佛洛伊德

50. 過去，某一些行業對女性員工訂有「單身條款」，要求女性員工一旦結婚必須自動離職，並載明於工作契約中，而對男性員工則無此要求。此種「單身條款」即屬於下列何者？

(A)性別標籤

(B)性別偏見

(C)性別歧視

(D)性別刻板印象

51. 附表為西元2001年至2008年內政部登記的人民團體數量，由表中的資訊可看出臺灣社會的那些樣貌？

(A)社會運動的發展緩慢

(B)臺灣社會有充沛的民間力量

(C)非營利組織的多元性較高

(D)政府的統治效率日益下降

年代(西元)	政黨	職業團體	社會團體
2001	97	354	4407
2002	99	365	4930
2003	102	374	5467
2004	108	365	5997
2005	116	373	6565
2006	122	407	7150
2007	136	414	7796
2008	144	419	8542

52. 「文化位階」又稱「文化等級」，指文化之間因為接觸而產生比較及排序，造成文化有高低優劣之分，由此形成所屬族群的地位。下列行為中，何者隱含了「文化位階」的概念？

(A)憲法規定對於多元文化應保障其生存和發展的權利

(B)電視廣告將藍領階層男性塑造成愛講粗俗笑話的形象

(C)青少年穿著嘻哈風並喜歡聚集在公共廣場練習跳街舞

(D)中國古代稱妻子為「內人」、「賤內」等，可見妻子在家中之地位

53. 某甲騎乘機車經十字路口遇紅燈，停了下來，佯裝向路旁邊等紅燈邊看手機的行人某乙問路，問了幾句後，甲又向乙騙稱有急事要打電話，但手機剛好沒電，想跟乙借用手機一下。乙不疑有詐，立刻將手機借給甲使用，甲接過乙的手機之後，立即加足馬力揚長而去，乙當下反應不過來，不知所措。依實務見解，甲應成立何罪？

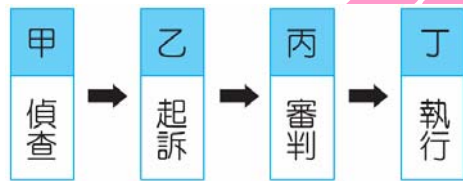
(A)詐欺罪

(B)侵占罪

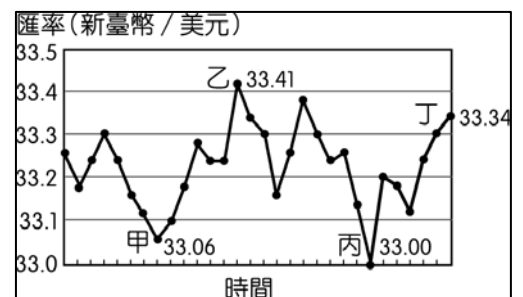
(C)搶奪罪

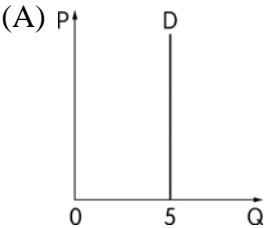
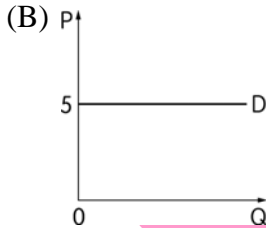
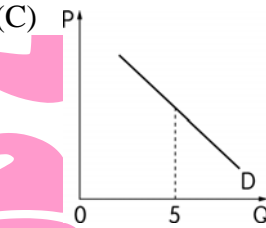
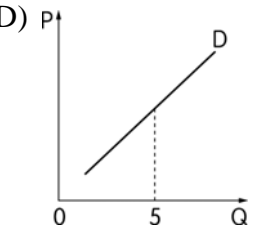
(D)竊盜罪

54. 依《刑事訴訟法》第101條聲請羈押犯罪嫌疑人的要件中，下列何者為「非」？  
 (A)有勾串共犯或證人之虞 (B)有逃亡滅證之事由  
 (C)經逮捕之犯罪嫌疑人 (D)案情重大造成社會恐慌
55. 請根據《憲法》第23條限制人民權利行使的條件中，判斷下列人民權利受限制的原因，何者與其他三者「不同」？  
 (A)強制徵收私人土地從事公共建設 (B)強制取締流動攤販占用道路  
 (C)禁制人民組成以犯罪為宗旨的組織 (D)強制驅離發生暴力傷害的遊行
56. 大明不幸過世，他有配偶、父母以及子女甲、乙、丙三人，若甲拋棄繼承，上述何者可以參與遺產分配？  
 (A)配偶、乙、丙皆可參與遺產分配  
 (B)配偶、甲、乙、丙皆可參與遺產分配  
 (C)配偶、父母、乙、丙皆可參與遺產分配  
 (D)配偶、父母、甲、乙、丙皆可參與遺產分配
57. 下圖為我國刑事訴訟的流程簡圖，各項程序分別屬於何者的職權，請選出正確的敘述：



- (A)甲-檢察官、乙-法官、丙-法官、丁-地檢署  
 (B)甲-書記官、乙-檢察官、丙-大法官、丁-法院  
 (C)甲-調查局、乙-法官、丙-書記官、丁-法院  
 (D)甲-檢察官、乙-檢察官、丙-法官、丁-地檢署
58. 利達公司定期以新臺幣兌換美元後，向美國進口價值一千美元的原料，附圖是該公司的兌換紀錄，圖中顯示在不同時間點以1美元兌換新臺幣的比率。僅根據圖中內容判斷，若以新臺幣為衡量單位，甲、乙、丙、丁四個時間點，何者的進貨成本最低？  
 (A)甲 (B)乙  
 (C)丙 (D)丁
59. 小花在公司擔任「作業員」，而小憲在公司擔任「企畫顧問」，請問在生產要素的定義中，小花與小憲有何區別？  
 (A)小花為勞動，小憲為企業才能 (B)小花為人力資源，小憲為企業才能  
 (C)小花與小憲都為企業才能 (D)小花與小憲都為勞動



60. 嘉惠是個裁縫高手，她一個月可以做8件洋裝或4套西裝。每年有4個月的時間做洋裝，8個月的時間做西裝。鄰居玉華也是位裁縫師，她一個月可以做2件洋裝或2套西裝。每年有6個月的時間做洋裝，6個月的時間做西裝。有天玉華找嘉惠合夥開一家洋裁店，並保證合作對兩人都有好處，嘉惠半信半疑，但聽了玉華的說明後，終於了解分工合作的好處。請問她們兩人應如何分工，才能使總產量最大？
- (A)嘉惠專門做洋裝，玉華專門做西裝  
 (B)嘉惠專門做西裝，玉華專門做洋裝  
 (C)嘉惠產量大，可優先選擇西裝或洋裝  
 (D)只要兩人合作，如何分工沒有差別
61. 哈利從霍格華茲大學畢業後就開始尋找工作，找了很多間公司，目前給哈利回覆的公司都是告訴哈利目前暫時沒有僱用新職員的計劃。哈利目前屬於那一種失業類型？
- (A)循環性失業 (B)隱藏性失業  
 (C)摩擦性失業 (D)結構性失業
62. 政府的存在是為了讓人民能過幸福的生活，幸福生活的條件之一是經濟上的富足。下列有關「政府經濟功能」的敘述，何者正確？
- (A)臺灣最常見的財政政策是增加公共支出或減稅，這兩種都是「擴張性的政策」  
 (B)面對經濟景氣循環，現代政府最常採用的兩大政策是：社會福利和貨幣政策  
 (C)政府的收入來源以租稅為主，並可利用課徵間接稅來改善所得分配  
 (D)政府在經濟市場中所實施的種種政策，都是以促進經濟成長為唯一目標
63. 小林非常喜歡喝飲料，從來不詢問價錢，每天必定購買5杯飲料，不論漲價或降價都如此，請判斷小林對飲料的需求線可能為下列何者？
- (A)  (B)  (C)  (D) 
64. 關於法國法學家瓦薩克（Karel Vasak）所提出的三代人權，下列何者正確？
- (A)第一代人權：重視保障人民的經濟、社會與文化權利  
 (B)第二代人權：屬於積極人權，其強調公民與政治權利  
 (C)第二代人權：強調國家應積極保障人民基本生活所需  
 (D)第三代人權：18到20世紀初，關注弱勢文化與和平權
65. 依據我國《公民投票法》之相關規定，下列何者得列為公民投票之提案？
- (A)提高公職人員薪俸 (B)國民教育年限延長  
 (C)提高地方財政預算 (D)降低贈與稅的額度

66. 自今年三月學運以來，各種支持與反對「兩岸服務貿易協議」的論述時有耳聞，若透過公民會議之方式，以探求各方對於此議題之觀點，屬於下列何種民主理論的落實？

(A)古典民主理論 (B)經驗民主理論  
(C)審議民主理論 (D)多元民主理論

67. 甲國因天候問題冬季尤其酷寒，難以種植香蕉，香蕉量產相當有限，於是向乙國購買。請問：在其他條件不變的情況下，若兩國貿易後香蕉市場達到均衡時，下列敘述何者正確？

(A)香蕉市場的均衡價格在甲國與乙國均相等  
(B)乙國的出口量即是出口國國內的超額需求  
(C)甲國的進口量即是進口國國內的超額供給  
(D)乙國的超額需求和甲國的超額供給達相等

68. 根據我國《憲法》及增修條文之相關規定，我國與下列哪個國家的政府體制最為相似？

國家	閣員得否兼任國會議員	倒閣權	覆議權	副署制度
(A)	◎		◎	
(B)		◎	◎	◎
(C)	◎	◎		
(D)			◎	◎

69. 某國舉行國會大選採用混合投票制的「聯立制」，該國國會席次一共200席，且無選舉門檻等限制。各黨的得票情況如附表，請問丙黨政黨名單中的前若干名候選人可獲得國會席次？

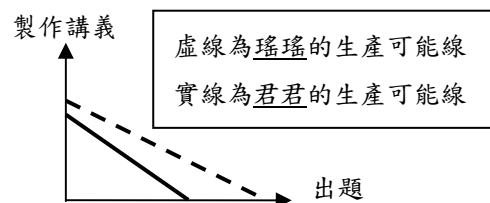
	甲黨	乙黨	丙黨	丁黨
政黨得票率	35%	20%	30%	15%
區域選舉當選席次	58席	32席	45席	15席

情況如附表，請問丙黨政黨名單中的前若干名候選人可獲得國會席次？

(A)45席 (B)30席 (C)15席 (D) 5席

70. 君君與瑤瑤組成教甄讀書會，右圖為他們二人「練習出題」與「編製教學講義」的生產可能曲線，試根據圖型判斷，下列何者正確？

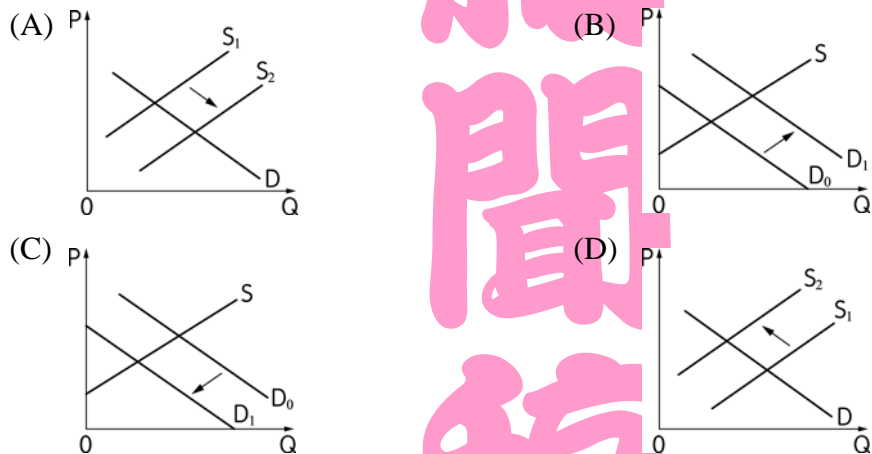
(A)瑤瑤具有「出題」與「製作講義」的比較利益  
(B)瑤瑤具有兩者之絕對利益，故無須跟君君合作  
(C)瑤瑤出題的機會成本較小，在出題有比較利益  
(D)君君製作講義的機會成本較大，不適合做講義



71. 當代民主國家的選舉制度可分為「比例代表制」、「多數決制」與「混合制」三大類，其中「多數決制」又可細分出許多不同的選舉模式。根據我國現行的選舉辦法，下列何者與原住民立委之選舉制度相同？

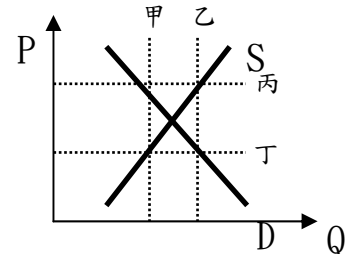
- (A)區域立委 (B)鄉鎮市長  
(C)縣市議員 (D)不分區立委

72. 某個小鎮於本月連續發生數起公車之狼性侵夜歸女性的案件，試問，在其他條件不變的情況下，下列何者最有可能為該小鎮上本月份「防狼噴霧」的需求曲線變動圖？



73. 右圖為某國國內的柳丁市場的供需圖，若該國政府欲實施農產品保證價格收購制度，試問其管制價格應為右圖中哪一條線才合理？

- (A)甲  
(B)乙  
(C)丙  
(D)丁



74. 「中央或地方機關就公法上具體事件所為之決定或其他公權力措施而對外直接發生法律效果之單方行政行為。」若依據我國法律之規定，上述行為應稱為下列何者？

- (A)職權命令 (B)法規命令  
(C)行政處分 (D)行政規則

75. 中華民國總統馬英九、美國總統歐巴馬與法國總統歐蘭德，關於此三者之權限與任期下列何者正確？

- (A)皆為國家最高的行政首長 (B)任期皆為四年得連任一次  
(C)皆分別向國會與人民負責 (D)皆為掌有國家實權之元首

76. 若某國2013年的名目GDP高於該國2012年的名目GDP，則代表下列何種意義？

- (A)該國經濟正在衰退 (B)該國景氣開始復甦  
(C)該國經濟出現停滯 (D)無法比較



77. 依我國現行之體制，下列何者屬於公法人地位的地方自治團體？
- (A)基隆市議會 (B)臺北市政府  
(C)嘉義縣嘉義市 (D)桃園縣大園鄉橫峰村
78. 某國央行實施貨幣寬鬆政策，一般而言，在其他條件不變下，此政策對該國將會形成下列何種影響？
- (A)利率下降、貨幣貶值 (B)利率上升、貨幣貶值  
(C)利率上升、貨幣升值 (D)利率下降、貨幣升值
79. 近年國內相繼爆發食安問題，民意代表主張要求政府加強檢核CAS認證的農產品與GMP認證的食品，其主要目的在於解決下列何者所引發的外部性問題？
- (A)提供公共財 (B)資訊不對稱  
(C)交易成本過高 (D)財產權界定不明確
80. 根據《憲法》與《地方制度法》之相關規定，當政府部門權限劃分不明確而彼此發生爭議時，下列處理的方法何者正確？
- (A)當立法院與監察院發生爭議時，由行政院解決  
(B)當考試院與高雄市發生爭議時，由行政院解決  
(C)當新北市與新竹市發生爭議時，由內政部解決  
(D)當基隆市與台東縣發生爭議時，由內政部解決

【試題結束】