

科目：公民科

選擇題：共 70 題。第 1~40 題每題 1 分；第 41~70 題，每題 2 分，總分 100 分

- (A) 1.智宏在某一次團體聚會中，介紹自己時提到：「我是個大學生，也是原住民、基督教徒，同時還擔任中小學學生的課後輔導志工，在人際互動中我儘量表現符合社會期待的行為。」根據上述判斷，智宏最可能在闡釋何種概念？
(A) 社會角色 (B) 社會流動 (C) 重要他人 (D) 鏡中自我
- (B) 2.敏玲是一位關心臺灣環境保護問題的家庭主婦，多年來她熱心擔任環保志工，多次參與由不同環保團體所舉辦的遊行請願與推廣教育活動。這些環保團體的參與成員，彼此基於自由意志，願意為了追求環保理念的落實，自動自發的支持團體的目標與價值。請問敏玲參與的團體屬於何者屬性？
(A) 職業團體 (B) 志願團體 (C) 非志願團體 (D) 宗教團體
- (B) 3.下列哪些比喻可用以描述社會流動的過程或現象？(甲)世風日下，人心不古 (乙)布衣可為卿相 (丙)流氓教授 (丁)從小木屋到白宮 (戊)麻雀變鳳凰。
(A) 甲乙丙丁戊 (B) 乙丙丁戊 (C) 甲乙丙丁 (D) 乙戊
- (B) 4.大偉對於近年公民團體倡議的頻繁活動感到好奇，他想探究各種團體的類型與性質，尤其對於「壓力團體」的概念更激發他的好奇心，請選出下列何者屬於「壓力團體」？
(A) 教會/公會 (B) 公會/工會 (C) 學校/政黨 (D) 同鄉會/同業公會
- (A) 5.當民意測驗的結果為 U 型曲線時，此時反映民眾的意見呈現出什麼狀況？
(A) 兩極化分歧 (B) 溫和雙峰分配 (C) 一面倒反對 (D) 一面倒贊成
- (C) 6.現代社會中家庭的形式日趨多元，請問如果有一個家庭是由離婚後帶著前一次婚姻中所生子女再結婚而組成的，這種家庭被稱為何者？
(A) 兩地家庭 (B) 新三代家庭 (C) 重組家庭 (D) 隔代家庭
- (B) 7.依家庭暴力防治法規定，家庭暴力是指家庭成員間實施身體或精神上不法的侵害。下列何者不是家庭暴力防治的保護對象？
(A) 同住的岳父 (B) 同寢室的室友 (C) 前妻或前夫 (D) 同居的同志伴侶
- (C) 8.美國政治學者伊斯頓(David Easton)如何定義「政治」？
(A) 權力的形成、分配與運用
(B) 建構公共領域及公民社會的過程
(C) 為社會從事價值的權威性分配
(D) 制定政策及解決公共事務爭議的過程
- (D) 9.世界貿易組織(WTO)規定締約國對於來自或運往其他國家的產品所給予的利益、優待、特權和豁免，應當立即無條件地給與來自或運往所有其他締約國的相同產品。依上所述，此一規定是指下列何種原則？
(A) 公平貿易原則 (B) 關稅減讓原則 (C) 國民待遇原則 (D) 最惠國待遇原則
- (C) 10.選舉制度對於民主國家的政治制度與政府運作具有關鍵性之影響。根據我國現行的選舉制度，下列敘述何者正確？
(A) 總統選舉採取兩輪投票制，故不會產生支持度未能過半的總統
(B) 縣市升格為直轄市後，市長的選舉改採單一選區絕對多數決制
(C) 縣市議員選舉採取複數選區制，名額較多能兼顧地方多元聲音
(D) 立法委員選舉採取絕對多數決制，故能充分代表地方主流意見
- (B) 11.某內閣制國家，有甲乙丙丁戊五個政黨，本次國會大選選舉結果如表(一)。依表中資訊判斷，下列有關其聯合內閣組成的敘述何者正確？

表(一) 國會大選選舉結果

政黨名稱	甲	乙	丙	丁	戊
國會席次	8	21	26	12	33

- (A) 甲黨所獲得的席次過少，沒有參與組織聯合內閣的機會
(B) 丙黨若不想與過多政黨分享內閣權力，只能與戊黨合作
(C) 甲乙丁三黨過半，組成聯合內閣可以獲得國會穩定多數
(D) 乙丙兩黨若想合作組閣，只能夠尋求丁黨或戊黨的協助

- (A) 12.冷戰時期的國際關係除了「東西對抗」外，也存在「南北對抗」的情勢。以下關於「南北對抗」的敘述何者正確？
- (A) 南方國家和北方國家的主要區別，是依據經濟發展的程度來決定
 - (B) 南方國家多半是屬於富裕國家而北方國家則多半是屬於貧窮國家
 - (C) 南北對抗的主要場域是世界貿易組織，很少在聯合國內產生衝突
 - (D) 南北對抗的主要因素仍然是冷戰，因為南方國家大多屬蘇聯盟國
- (B) 13.關於我國核四電廠是否續建的爭議，政府擬交付全民公投，受到社會高度關注。根據我國《公民投票法》的相關規定，下列敘述何者正確？
- (A) 人民提案通過門檻即可成案不須審議
 - (B) 行政院沒有全國性公民投票的提案權
 - (C) 提案前提須是「核四續建」政策已經遭到國會否決
 - (D) 只要有效投票數超過全國總投票人數的半數即通過
- (C) 14.在我國，人民透過手中選票選出心中理想的候選人，將國家管理大事交由當選人代為行使之。當執政者失去民心時，人民亦可發揮「水能載舟，亦能覆舟」的力量，透過法定途徑要求執政者交出權力。依據我國相關法律規定，下列針對參政權的敘述，何者正確？
- (A) 執政者交出權力後，不論理由為何皆不可再行使參政權
 - (B) 憲法明訂人民有參政權，但僅限選舉權及罷免權
 - (C) 憲法中明訂人民擁有參政權，係在落實主權在民的理想
 - (D) 人民一旦被宣告褫奪公權，代表其已經完全失去參政權
- (B) 15.某甲因違反《集會遊行法》遭到檢察官起訴，法官在審理該案件時，認為該法部分條文有違憲疑慮，依據法律規定，下列何項作法較為妥適？
- (A) 法官可告知該案件之當事人，向司法院大法官提出釋憲聲請以解決此問題
 - (B) 法官可暫停該訴訟審理，備齊理由向司法院大法官提出釋憲聲請以求解決
 - (C) 該案件當事人可要求法官依惡法非法精神，認定該法條違憲並判決其無罪
 - (D) 該案件當事人可根據信賴保護原則，對行政機關提出訴願要求撤銷原處分
- (C) 16.父母早逝、沒有妻小的獨子大德與年邁祖母相依為命。某日大德駕車不小心撞傷路人小茹，造成小茹身受重傷，約定賠償 50 萬元。一週後，大德因病身故，只留下存款 10 萬元，小茹只好轉向大德的祖母求償。關於上述賠償，下列選項何者正確？
- (A) 大德的祖母並非法律所定之繼承人，所以小茹的求償於法無據
 - (B) 除非大德的祖母依法拋棄繼承，否則小茹可以向她求償 50 萬元
 - (C) 就算大德的祖母未依法拋棄繼承，也只須對小茹負 10 萬元的清償責任
 - (D) 肇事的人是大德，只有大德有賠償義務，小茹不可向大德的祖母求償
- (D) 17.甲夫乙妻於婚姻關係存續中，生有一子丙，丙與丁女結婚，並無子嗣。某日，甲、丙同時遇難俱亡，甲、丙各留有遺產新台幣（下同）一百萬元。試問：乙、丁各得繼承合計多少遺產？
- (A) 乙五十萬、丁一百五十萬元
 - (B) 乙、丁各一百萬元
 - (C) 乙一百三十三萬、丁六十七萬元
 - (D) 乙一百五十萬、丁五十萬元
- (B) 18.有食品業者發現其所使用的材料含有「塑化劑」，可能會危害食用者的健康，遂決定將產品從市面上全數回收。此一作法，主要是根據下列何者的要求？
- (A) 《公平交易法》
 - (B) 《消費者保護法》
 - (C) 民法裡的過失責任原則
 - (D) 民法裡的公序良俗原則
- (D) 19.在民事私法領域內，尊重每一個人的自主性，只要不違反法律規定、公共秩序與善良風俗等，當事人皆可在法律限制的範圍內，依憑個人的意思表示，決定個人的行為會產生何種法律效果。上述說法旨在說明下列何種概念？
- (A) 所有權絕對原則
 - (B) 法律優越原則
 - (C) 誠實信用原則
 - (D) 私法自治原則
- (D) 20.我國刑法中關於「罪刑法定主義」原則的敘述，下列何者正確？
- (A) 為匡正社會秩序，某些行為若已違反風俗習慣，法官即應判定犯法
 - (B) 為因應時代潮流，法官可援引他國判例來認定犯罪行為並加以量刑
 - (C) 若立法院在行為人作出某行為後，始立法通過認定該行為觸法，則該行為人亦須受到刑罰
 - (D) 法律無明文規定處罰的行為，不得任意處罰之

(D) 21.學者常謂：「一個人自母體受胎開始，終其一生皆和民法發生關係，直到死亡才和民法脫離。」是故，民法的規定相當廣泛且細瑣。在我國民法法典中，屬於身分法的編章有那些？（甲）物權編（乙）債編（丙）繼承編（丁）親屬編。

(A) 甲乙 (B) 甲丙 (C) 乙丙 (D) 丙丁

(D) 22.著作權是一種重要的智慧財產權，我國也制定著作權法加以保障，下列有關著作權和著作權保障的敘述，何者不正確？

(A) 小馬在腦海中構思的電腦程式並不受著作權法保護

(B) 小沈對於他所創作的舞蹈終身可以享有姓名表示權

(C) 小楊創作樂曲的著作財產權可及於他死亡後五十年

(D) 小張所寫書籍的著作人格權在他死後可由他人繼承

(D) 23.某知名咖啡店只要舉辦買一送一行銷活動，咖啡店就會出現大排長龍現象。下列有關供需變動的敘述，何者與上述現象相同？

(A) 美國頁岩油產量增加使國際油價下降

(B) 因老年人口增加使得醫療需求量大增

(C) 我國晉級世棒經典賽使周邊商品熱賣

(D) 百貨公司週年慶打折活動買氣搶搶滾

(D) 24.表（二）為航空公司臺北飛航上海的方式、平均票價以及機位供給、需求狀況。請問以下描述或解釋不同飛行方式供需狀況差異的敘述何者正確？

表（二）航空公司飛行方式供需狀況差異表

飛行方式	票價	機位供給	機位需求
臺北直飛上海	新臺幣 15,000 元	3,500 位	4,500 位
臺北經香港至上海	新臺幣 10,000 元	2,000 位	1,000 位

(A) 臺北直飛上海航班採以價制量導致需求大於供給

(B) 多數旅客並不認為直飛的票價比轉機貴是合理的

(C) 只有少數航空公司有直飛上海，讓旅客無從選擇

(D) 多數旅客認為轉機額外的時間成本高於減價優惠

(A) 25.每年春節，中央銀行為因應民間習俗之需，除印製新鈔指定七大行庫及中華郵政開放提領，並要求各金融機構備妥年節需求資金，從平日約 300 億元增加至 1200 億元，也派員監看各金融機構跨行資金流動的狀況。這些措施反應了中央銀行的哪些職能？（甲）發行貨幣（乙）控制貨幣數量（丙）促進金融穩定（丁）商業銀行的資金融通者。

(A) 甲乙丙 (B) 乙丙丁 (C) 甲乙丁 (D) 甲丙丁

(D) 26.國與國間簽訂的自由貿易協定，主要目的在消除各種貿易障礙，其中以免除進口關稅為普遍。假如臺灣與其他國家簽訂自由貿易協定時，允諾兩國同時降低農產品進口關稅，則下列關於臺灣農產品市場的敘述何者正確？

(A) 市場價格上升 (B) 消費者將受害 (C) 生產者將受益 (D) 進出口皆增加

(B) 27.公共利益的推動，除了透過國家的公權力之外，也常經由公民團體的倡議。下列何者屬於公民團體的倡議活動範疇？

(A) 網民串聯集結在總統府前廣場，要求政府肅貪反污

(B) 有志人士組成妓權團體，遊說政府將性工作除罪化

(C) 教授帶領一群學生，抗爭政府執行都市更新不公平

(D) 學者連署在報紙刊登廣告，呼籲政府重視失業問題

(A) 28.太陽報社報導：「策劃重大恐怖事件的中東恐怖組織領袖遭美國情報人員擊斃，對美國威望的提升以及未來的全球戰略均有重大意義……」；月亮報社報導：「恐怖攻擊事件發生時，美國曾譴責中東國家是暴力分子，現在自己卻以暗殺的恐怖手段結束這位英雄的生命，令人遺憾……」。針對上述報導，下列何者是這兩家報社對此事件做出差別報導的主因？

(A) 各家報社本就有其不同的立場

(B) 為擴大自家報社的市場占有率

(C) 為追求輿論的平衡而刻意不同

(D) 所有報導向來都無法呈現真相

(B) 29.輿論對興建蘇花高速公路的議題有許多主張，部分人士主張興建蘇花高速公路，即可改善花蓮對外交通，促進東部經濟發展，為東部居民帶來最大福祉。此種論述最符合下列何者的觀點？

(A) 社群主義 (B) 效益主義 (C) 社會正義論 (D) 古典自由主義

(D) 30.1991 年夏天，在淡水河左岸，三重後竹圍居民用自己的力量打造了自己的公園。後竹圍公園是遭擱置未開發的公園預定地，後來因政府補助預算遭到裁減，於是改採透過「居民參與」模式的公園設計行動，藉由社區動員、居民共同參與，在幾次與市公所協調折衝之後，居民設計的公園取代了原來的設計圖，並且發包施工，成為台灣第一座經由民眾參與設計的公園，即使落成啟用後的管理維護，也是大多由居民自己來。三重後竹圍公園實踐何種精神？

(A) 社區總動員 (B) 社區產業再生 (C) 社區總體意識 (D) 社區總體營造

(C) 31.公民與社會科課堂正在針對「媒體的性質與功能」主題進行討論。下列是同學們討論時所提出的見解，哪些是正確？

(甲)媒體為第四權，表示媒體受到憲法保障，屬於制衡政府的第四個公權力

(乙)為有效達到監督政府的目的，應該立法禁止政府規範媒體的經營與報導

(丙)記者報導特定事件時，不應未求證直接使用網路流傳的照片及影音資料

(丁)政府為救災封鎖重大災害現場且禁止記者進入，未必構成侵害新聞自由

(戊)為了充分保障社會大眾的媒體近用權，記者有權報導公眾人物的私生活

(A) 甲乙 (B) 乙丙 (C) 丙丁 (D) 丁戊

(D) 32.有關我國社會團體的分類，下列那些組織屬於非營利社團法人？(甲)蘇澳區漁會 (乙)慈濟基金會 (丙)中國信託商業銀行 (丁)晚晴協會 (戊)扶輪社。

(A) 甲乙 (B) 乙丁 (C) 丙戊 (D) 丁戊

(D) 33.英國社會學家紀登斯 (A. Giddens) 認為民主的精神應擴及到私領域層面，讓親密關係民主化，方能讓社會整體走向真正的民主。上述學者提及之「私領域」是指下列何者？

(A) 學校 (B) 社團 (C) 社區 (D) 家庭

(A) 34.世界人權宣言開宗明義宣示人生而自由及所有人一律平等的理念。而現代社會追求的是積極性的差別待遇所呈現的真平等社會，其目標是使每個人在社會上能站在相同的出發點上，而有相同的機會去發展。下列何者尚未展現實質平等理念？(甲)男女廁所的數量設計上應做到相同公平 (乙)只要年滿 65 歲農夫皆可以申請老農津貼 (丙)性別工作平等法禁止針對女性的禁孕條款存在 (丁)立委選舉時設有原住民族與婦女保障名額。

(A) 甲乙 (B) 甲丙 (C) 乙丙 (D) 丙丁

(C) 35.某國政府在一項爭議性議題的決策時，抽籤挑選了 50 名公民進行討論，為了提升會議時討論的品質，另於會前透過專家授課、資料閱讀等方式讓民眾充分掌握資訊，而參與會議的 50 位公民在理性溝通、審慎思辨後，針對此爭議性議題提出具有共識的意見，作為政府決策的參考。上述內容符合西方何種民主理論的主張？

(A) 菁英民主理論 (B) 參與民主理論 (C) 審議民主理論 (D) 古典民主理論

(C) 36.2017 年 3 月南韓憲法法庭宣布通過總統彈劾案，朴槿惠成為南韓史上首位被彈劾的總統，右圖 (一) 是媒體對南韓總統彈劾的部分報導內容。根據圖中內容判斷，下列與我國總統彈劾的比較何者正確？

(A) 提案門檻不同

(B) 通過門檻不同

(C) 審理機關類似

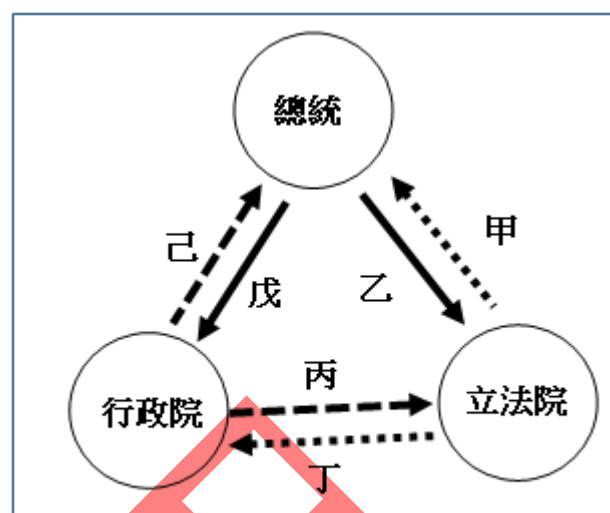
(D) 投票時間類似

韓國總統無權解散國會，但國會可以通過彈劾程序限制總統。要彈劾總統，先要有國會議員提出彈劾動議，並必須要有過半數的國會議員贊成。投票必須於動議提出後的 24 小時之後，至 72 小時以前，以不記名方式投票。若投票時間超過則作無效論。若投票結果顯示，有超過三分之二的國會議員投贊成票，彈劾議案就通過。之後彈劾議案會交由憲法法庭審理。若憲法法庭通過，則總統就必須下台。

圖 (一)

(B) 37.媒體報導我國蔡英文總統就職後，經常與行政院首長、立法院黨籍立法委員進行施政政策的討論。右圖（二）是我國總統、行政院、立法院三者間的權力關係圖，根據圖中內容判斷，下列說明何者正確？

- (A) 三者權力關係依均權制度設計
- (B) 甲可以填入「追認緊急命令」
- (C) 乙可填入「主動解散立法院」
- (D) 丁可填入「質詢權、罷免權」



圖（二）

(B) 38.2017 年 5 月 15 日立法院經濟等 6 委員會初審通過《前瞻基礎建設特別條例》草案，立委若對決議有異議時，得依法於原案表決後，提出「甲」動議；未來若三讀通過將由立法院咨請總統公布並函送行政院，若行政院認為窒礙難行，可經總統核可後提出「乙」案。根據上文判斷，甲、乙分別為下列何者？

- (A) 複議、覆議
- (B) 復議、覆議
- (C) 附議、復議
- (D) 複議、附議

(A) 39.我國政府推動年金改革方案，部分民眾質疑政務官退職金領取方式，呼籲一併列入改革。有學生在課堂上問張老師「什麼是政務官，他和事務官有何不同呢？」，表（三）是張老師在黑板上解說時所做的整理。依表中內容判斷，下列各項說明何者正確？

- (A) 戊：沒有升遷制度
- (B) 丙：任期受終身保障
- (C) 甲：須經國家考試取得資格
- (D) 庚；適用「公務人員退休法」

表（三）政務官與常任文官的比較表

	政務官	事務官
任用資格	(甲)	(乙)
主要任務	制訂政策	執行政策
任期長短	(丙)	(丁)
升遷制度	(戊)	(己)
退休制度	(庚)	(辛)

(D) 40.釗璞：「美國立憲之初在憲法中對黑人存在歧視，釀成美國內戰及 1960 年代的黑人民權運動。」

載衍：「南非的種族隔離政策雖於法有據，也釀成曼德拉領導黑人長期抗暴示威。」

從上述兩人的對話，可以推論他們最可能在討論國家統治的何種議題？

- (A) 權威性與民主性
- (B) 法治性與正義性
- (C) 平等性與自由性
- (D) 合法性與正當性

(D) 41.表（四）是劉老師在地方政府組織與職權的單元上課前，請同學課前蒐集新北市政府最近施政措施的資料標題，請依表中資料判斷，下列的說明何者正確？

表（四）	
甲	新北市向交通部爭取前瞻軌道補助，想為市民建構更完善的交通環境。
乙	勒索蠕蟲 WannaCry 肆虐，新北市刑警大隊受理 2 件受害公司的報案。
丙	520 結婚登記日提早申辦，新北市戶政單位送好禮表達對新人的祝福。
丁	噪音車夜間擾寧陳情案件飆升，新北市加強取締違法噪音超標改裝車。

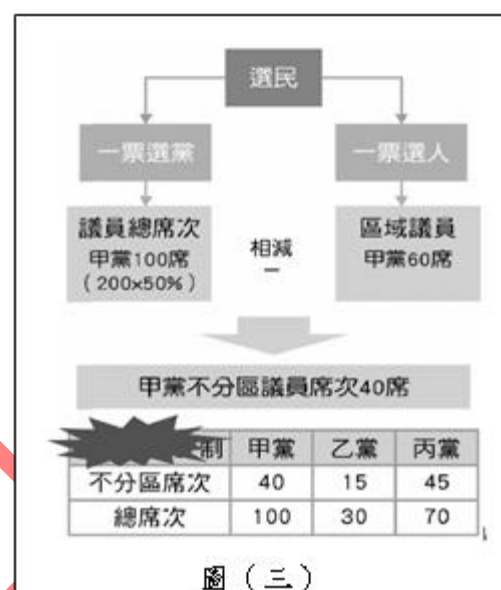
- (A) 甲為地方政府安全衛生的工作
- (B) 乙為地方政府社會服務的工作
- (C) 丙經費的決算將由市議會審查
- (D) 丁是發揮處理外部效果的功能

(C) 42.某國有甲、乙、丙三個政黨，共要選出 200 位議員，某年選舉結果得票情況如表（五），該國席次計算方式如圖（三），請依表與圖中的資料，判斷下列說明何者正確？

- (A) 圖（三）污漬處可填入日本式併立制
- (B) 該國選制最可能為複數選區兩票制
- (C) 此選制有助改善代表性不足的問題
- (D) 我國立委的席次計算與圖（三）相同

表（五）

	政黨得票率%	區域席次(席)
甲黨	50	60
乙黨	15	15
丙黨	35	25
總計		100



(D) 43.12 年國教課綱延後到 108 年實施，原訂 109 年實施的社會學習領域是否提前同步上路，受到大家關心，教育部長表示：社會領域目前已完成領綱草案，將經國教院課發會審查，7 月辦理 22 縣市公聽會，聽取各方面意見，預計 107 年底送至課審會，有機會在 108 學年度同步進行，但後續仍會尊重課審會的審查結果。有關上述「22 縣市公聽會」的說明，下列何者正確？

- (A) 依舉辦的目的，較偏向審查性公聽會
- (B) 目的僅在針對新課綱進行內容的說明
- (C) 相較聽證會有更嚴謹的法定進程序
- (D) 公聽會結果不一定要列入政府決策中

(C) 44.甲未經鄰居乙同意，自行修剪鄰居乙「越界」的九重葛和白玫瑰，法院認定已變更植物的外觀與生長效用，判決甲罰金三千元及賠償鄰居乙三千六百元。根據我國法律規定，從上述內容判斷，下列何項敘述正確？

- (A) 法官判決甲罰金三千元，應是依據《民法》的規定
- (B) 法官判決甲賠償鄰居乙三千六百元，應是依據《刑法》的規定
- (C) 乙的權利救濟途徑，除了向法院提起訴訟外，也可以申請調解
- (D) 甲與乙的紛爭，涉及非告訴乃論刑事事件，僅能透過訴訟解決爭議

(C) 45.我國對於犯罪的追訴及處罰，基於審檢分立原則，將起訴與審判分開，由檢察官與法官各司其職，針對兩者在刑事訴訟中的職權與角色，下列有關敘述何者正確？

- (A) 檢察官可依偵查結果，對被告決定予以緩刑
- (B) 檢察官擔任自訴的原告角色，並負有舉證責任
- (C) 法官就證據依自由心證輔佐經驗法則對被告作出判決
- (D) 法官負責並指揮執行法院終審判決對犯罪者所施予的處罰

(C) 46.我國現行法院結構分為普通法院和行政法院兩大體系，下列有關兩者的敘述何者正確？

- (A) 普通法院原則上採三級三審制，皆以公開方式開庭審理開放民眾旁聽
- (B) 行政法院原則上採三級二審制，主要審理交通裁決事件及行政訴訟事件
- (C) 普通法院的地方法院與高等法院原則上為事實審，最高法院則為法律審
- (D) 行政法院審理的簡易訴訟事件及通常訴訟事件，以最高行政法院為第二審法院

(B) 47.近年企業紛紛支持在地產業，全聯福利中心與屏東農民合作推出「老鷹紅豆」，由農民林清源領軍的「老鷹紅豆」團隊，以自然農法栽種紅豆，並引進全聯契作。如今「老鷹紅豆」商標權已由林清源取得，真正商品化。針對上述內容所提到商標權的相關敘述，依據我國法律規定判斷，下列何者正確？

- (A) 商標權的商標組成僅限文字或圖形，但不接受聲音或顏色
- (B) 商標權的取得必須經申請註冊，並於註冊公告後才能享有
- (C) 商標權的權利期限為十年，使用到期後則不能再申請展延
- (D) 商標權的性質屬於無體財產權，因此不得繼承也無法讓與

(B) 48.徐自強因被控擄人勒贖並撕票而(甲)判決死刑，曾遭(乙)羈押 15 年 11 個月，歷經五度(丙)非常上訴，2016 年 10 月最高法院判決指出，其他共犯的自白皆不足以證明徐有擄人勒贖及故意殺人，且卷內也沒其他證據資料證明徐涉案，因此(丁)判決徐無罪定讞。根據上述內容判斷，針對劃底線部分的說明何者正確？

- (A) 甲→剝奪犯罪行為人的終身自由
- (B) 乙→依據法律正當程序須由法官裁定
- (C) 丙→適用於民事訴訟、刑事訴訟及行政訴訟
- (D) 丁→當事人可依據《國家賠償法》向國家請求補償金

(D) 49.行政院環保署為推動購物用塑膠袋減量措施，規定公部門、公私立學校、百貨公司及購物中心、量販店、超級市場、連鎖便利商店、連鎖速食店等 7 大類管制對象的購物用塑膠袋，須由消費者付費取得，不得免費提供。但近日有業者被民眾舉報，在門口（結帳區外）設置免費裝袋區，提供透明塑膠袋給民眾自行取用。環保署指出，臺北市環保局稽查已開出勸導單，要求該業者改善，再犯可罰 1200 至 6000 元。依據上述內容判斷，被舉報的業者所違反的規範為下列何者？

- (A) 自治規則
- (B) 行政規則
- (C) 行政契約
- (D) 法規命令

(A) 50.近日甲得知與她就讀同一所國中但不同班的好友，常常心神不寧、情緒低落的主要原因，是由於被班上的某位老師性騷擾所致，面對好友的痛苦與困擾，甲可以鼓勵並建議該好友依法如何尋求適當的權利救濟？

- (A) 向學校的性別平等教育委員會申請調查
- (B) 向學校的性騷擾防治委員會申請調查
- (C) 向學校的學生申訴評議委員會申請調查
- (D) 向學校的性別工作平等會申請調查

(A) 51.甲為 13 歲的國中一年級學生，某日，放學後留在學校與同學打棒球，因故與同學乙發生衝突，一時氣憤下，竟拿球棒將同學乙打成重傷，乙同學被送到醫院治療，甲則被送到警察局究辦。針對此事件後續處理的敘述，下列何者符合我國相關法律規定？

- (A) 甲若是進入少年矯正學校，仍可以繼續學校教育
- (B) 因甲的犯行重大，以接受刑事處分較為適當
- (C) 當案件審理完畢後，法院會公告甲和父母的姓名
- (D) 經過警察調查後，由法官決定將甲予以起訴

(A) 52.依據我國相關法律規定，針對人之權利能力、行為能力、意思能力及責任能力的敘述，下列何者正確？

- (A) 意思能力是判斷行為人有無行為能力與責任能力的基礎
- (B) 部分責任能力人所為的不法行為，依法得免除其刑
- (C) 限制行為能力人必須由其法定代理人代為行使法律行為
- (D) 權利能力限於自然人所享有，法人不具有權利能力

(C) 53.阿宗外出辦事到某民營停車場停車時，看到入口處的告示牌上寫著：「本處僅提供停車，不負保管責任，……。」依據我國相關法律的規定判斷，該告示牌的內容可以視為定型化契約條款嗎？

- (A) 不可以，因為停車場業者與車輛使用者間並未形成口頭合意
- (B) 不可以，因為該告示牌內容是停車場業者單方面所擬定的條款
- (C) 可以，因為用告示牌呈現的方式也是符合定型化契約條款的規範
- (D) 可以，因為該告示牌內容符合《公平交易法》維護交易秩序的規範

(C) 54.近年詐騙集團冒充政府機關、或經過國家考試核可的專業技術人員名義進行詐欺，容易取得民眾信任，此況日益氾濫，有必要修法嚇阻。公民團體呼籲政府應儘快修改《刑法》，加重刑責，以免民眾的個人財產及權益繼續受到侵害。關於該法的修正程序，下列何者最有可能為其後續發展情形？

- (A) 總統可請學者專家研擬《刑法》修正草案，逕送立法院二讀，以加快修法速度
- (B) 公民團體也可透過連署的方式，向立法院提出修法草案，再交由立法委員表決
- (C) 可由行政院提出《刑法》修正草案，經過行政院會通過後，送交立法院排案審議
- (D) 可由立法委員總額三分之一連署提案，再直接交付立法院相關委員會完成三讀程序

(A) 55.安安針對圖（四）之內容，就生產要素及其特性進行各項分析。下列分析內容的敘述，何者是錯誤的？

- (A) 「漳、泉婦女來此短期工作」承擔渡海風險，屬企業才能
- (B) 「工資四五錢」是廠商使用人力資源「女工」支付的代價
- (C) 「製茶工房」是人造生產工具，並非直接消費，屬於資本
- (D) 「茶行老闆」是生產行為的決策者，經營的報酬就是利潤

臺北府志記載：此地製茶工房林立，茶葉產期，茶行必須僱用許多女工，多則五六十人，少則二三十人，甚至有漳、泉婦女來此短期工作，每日工資四五錢不等。

圖（四）

(A) 56.當疾管局發布疑似狂牛症病例時，大部分民眾開始對牛肉之食用安全有所顧慮，選擇暫時不吃牛肉，而進口商也持觀望態度，進而減少對進口牛肉的供給。依上所述判斷，我國牛肉市場的供需及牛肉價格最可能有下列何種影響？

- (A) 需求線左移，供給線左移，價格變化不一定
- (B) 需求線左移，供給線右移，價格必然下降
- (C) 需求線右移，供給線右移，價格變化不一定
- (D) 需求線右移，供給線左移，價格必然上升

(B) 57.根據圖（五）新聞報導摘要內容判斷，下列有關「此租稅」之敘述，何者正確？

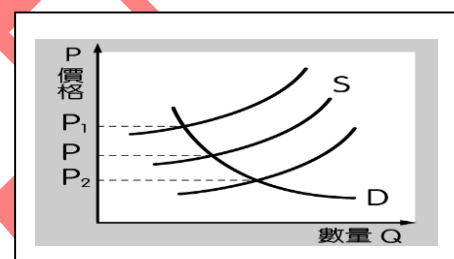
- (A) 依《財政收支劃分法》規定，屬中央稅收
- (B) 其徵收機關為各直轄市及縣（市）稅務機關
- (C) 與營業稅、貨物稅同屬地方政府稅收來源
- (D) 課稅對象與房屋稅相同，皆是屬於所得稅

我國在每年的 11 月間開徵地價稅，由於民國 105 年正好遇到「公告地價」（地價稅的計算稅基）三年一次的調整，而全國公告地價平均調升 30.54%，所以地價稅也跟著大幅調漲。

圖（五）

(C) 58.圖（六）是我國高麗菜市場的供給曲線和需求曲線。若僅依選項敘述，在不考慮其他條件時，下列有關高麗菜市場價格變化的敘述，何者正確？

- (A) 颱風過後，高麗菜遭嚴重損害，導致供不應求，價格會由 P 移往 P_2
- (B) 農民在颱風未到就提前採收，市場到貨量增加，價格會由 P 移往 P_1
- (C) 農民見有利可圖，一窩蜂搶種高麗菜，造成供過於求，價格會移往 P_2
- (D) 政府為保障消費大眾，釋出大量庫存的高麗菜時，價格會由 P_2 移往 P_1



圖（六）

(B) 59.美國聯邦準備理事會（Fed）在 2016 年底將基準利率調升 1 碼，因此導致大量資金匯流回美國，更連帶影響日圓對美元匯率在近幾個月持續下跌。若僅依上所述判斷，在不考慮其他因素時，下列敘述何者正確？

- (A) 相同美元購買日本商品的數量相對變少
- (B) 美國民眾購買日本進口商品相對變便宜
- (C) 此時有利於日本民眾到美國旅遊或留學
- (D) 日圓走跌不利日本企業的對美出口業務

(B) 60.就讀大學的平平在超商打工，時薪為 150 元。平平生日當天早上，安安表示當晚要請他看電影，於是平平向店長請假，依規定被扣薪 3 小時。安安花 500 元買兩張電影票，平平也花 120 元買爆米花和飲料回請安安。若僅依上述資料，在不考慮其他因素，下列針對兩人看這場電影的機會成本之敘述，何者正確？

- (A) 安安所支付的金錢較多，故機會成本最高
- (B) 平平雖被請看電影，機會成本卻較安安高
- (C) 兩人花相同時間看電影，故其機會成本相同
- (D) 兩人友誼無法以金錢衡量，故無法判斷成本

(C) 61.秀芬在百貨公司上班，擔任寢具櫃位人員，月薪 30,000 元。她單月的銷售業績大約是四十萬元左右。最近適逢百貨公司周年慶，舉辦滿五千送五百的優惠活動，秀芬的銷售業績大幅成長，單月創下 120 萬元的銷售業績。若就「經濟循環體系」來判斷上述內容，下列敘述何者正確？

- (A) 秀芬是「商品市場」的供給者
- (B) 120 萬元的業績是寢具公司的營業利潤
- (C) 就「生產要素市場」來看，秀芬是屬於供給者
- (D) 百貨公司吸引消費者購買的做法，符合「供給法則」

(A) 62.在我國，人民到地方法院辦理公證結婚者，依規定可以同時請求發給中文結婚公證書及其外文翻譯本，申請中文結婚公證書收費 1,000 元，英文譯本收費 400 元，其他外文譯本收費 600 元，翻譯費則以 200 字計算。地方法院的這些收費是屬於政府的何項收入？

- (A) 規費
- (B) 租稅
- (C) 財產收入
- (D) 公營事業收入

(A) 63.冷戰期間，各國競相發展武器競賽，曾有位總統感慨說道：「每一支造好的槍，每一艘下水的戰艦，每一枚發射的火箭，最後都是對於那些飢餓無糧者和寒冷無衣者的一種偷竊行為。」這句話主要在強調國家因為資源有限，因此在運用這有限的資源過程中，必須要考量下列哪一個經濟學上的概念？

- (A) 機會成本
- (B) 分散風險
- (C) 需求法則
- (D) 比較利益

(C) 64.下列是對「性別主流化」議題的敘述，哪一項是不正確？

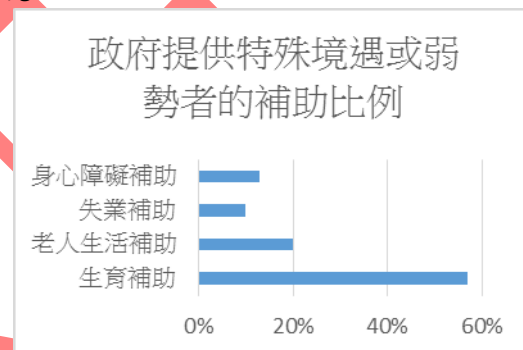
- (A) 性別主流化是全體人類的議題
- (B) 性別主流化是人本教育的一環
- (C) 性別主流化強調男女並無性別之差異
- (D) 性別主流化重視資源分配的合理性

(D) 65.六月畢業季到來，記者到校園隨機訪問畢業生，希望了解他們對於夢想及婚姻的看法，其中有位畢業生回答：「我現在只擔心畢業即失業，萬一找不到工作，連三餐都沒有著落，哪有心思去考慮結婚和追求夢想阿！」若依據馬斯洛的需求層次理論，下列敘述何者正確？

- (A) 此說法顯示安全需求屬於最低層次的需求
- (B) 愛與歸屬的需求只會出現在不安全依附的人身上
- (C) 對這位畢業生來說，結婚的需求比養活自己更重要
- (D) 需求理論有順序性，滿足低層次需求後，更高層次需求才會出現

(A) 66.圖(七)是某國政府針對特殊境遇或弱勢者所提供的補助比例，若從圖中所顯示的資訊推論該國的社會狀況，下列敘述何者最正確？

- (A) 該國面臨生育率下降，政府推動鼓勵生育措施
- (B) 該國的社會安全制度已相當完善
- (C) 該國政府最重視因應高齡化社會的福利措施
- (D) 該國可能面臨經濟不景氣的困境



圖(七)

(A) 67.有關法國社會學家布爾迪厄(Pierre Bourdieu)的主張，下列哪些敘述正確？

- (A) 生活風格成慣習(habitus)這類的文化資本，是長久累積，可代代相傳的
- (B) 主張全球文化若沒有在地化過程，則是一種文化帝國主義中
- (C) 主張統治階層以文化霸權(Cultural hegemony)在無形中控制或支配整個社會
- (D) 上階級透過文化資本無法再製下一代的社會階級

(B) 68.若借用韋伯(Max Weber)的社會權力與權威(social power and authority)概念，從人類社會與文化演進的歷史，來解析教育的促進社會統合功能，則下列哪一敘述最正確？

- (A) 強調「文人」權威(cultivated man authority)的社會，重視理性與科層體制權威，藉由教育培養人民對特殊領袖人物的崇拜
- (B) 強調專家權威(the expert authority)的社會，重視理性與科層體制權威(rational and bureaucratic authority)，藉由教育培育各類專家人才
- (C) 強調「精神感召」權威(charismatic authority)的社會，重視傳統習俗與傳統認可的權威，藉由特殊的考試制度(如中國的科舉)或特殊的學校(如英國的公學)，培育各類專家人才
- (D) 強調法理權威的現代社會，對於教師因個人魅力所形成的「精神感召」權威，應該加以抑制，以免挑戰校長的領導地位，或破壞校園的民主與和諧

(A) 69.文化(culture)與本性(nature)常常被視為一組對照概念，下列哪項敘述最適合描述文化人類學家對於二者之間關係的解釋？

- (A) 文化形塑了人類本性的表現
- (B) 本性決定了文化內涵與形式
- (C) 文化與本性之間往往嚴重衝突
- (D) 文化屬精神創造活動無關本性

(B) 70.人類學家瑪格麗特·米德 (Margaret Mead) 以《三個原始部落的性別與氣質》一書，對西方社會中的「性別 (文化)」議題投下震撼彈，影響思潮甚深。米德研究發現，「阿拉佩什」(Arapesh) 男子並沒有養成對女子頤指氣使的習慣，也沒有要求女子對他們唯命是從。在他們的觀念中，男女之間不存在天賦的差異；理想中的男子應該具有和藹可親、慈愛友善的秉性。而蒙杜古馬 (Mundugumor) 文化強調無論男女，都應具備一種勇猛剛強的性格特徵，完全摒棄那種溫柔的特徵。德昌布利 (Tchambuli) 則是由女性管理社會，從事捕漁、划船和貿易的工作；男性則打扮自己、研究藝術、花時間計畫儀式祭典。依據米德的研究結果，我們不可以做出哪些推論？

- (A) 性別角色具可塑性
- (B) 性別角色與生物性別具有絕對的關聯
- (C) 性別角色並非天生的
- (D) 性別角色是後天社會文化所建構的