

國立嘉義高中 103 學年度第一次教師甄選-公民與社會科試題

本試卷分為三部分：①單選題 30 題 60 分 ②名詞解釋 2 題 12 分 ③問答題 3 題 28 分

第壹部分、單選題 共 60 分 答錯不倒扣

1. 德國於 2013 年允許在嬰兒出生證明書上填寫第三性，成為歐洲第一個性別欄上出現未確定性別的「中性（X）」選項的國家。下列有關性別的敘述何者正確？

- (A)性別欄上可出現三種性別，是根據性別認同的差異性
(B)藉由去除先天性的生理區別，可以真正達成性別平等
(C)增加「中性」打破男女性別界線，有助於性別社會化
(D)生理性別的性別特徵並不是決定社會性別的主要因素

2. 升入高三的陳旭陵，因轉組而到了新班級，以下為他簡單的自我介紹，有關介紹詞中的「我」，何者最能符合米德的理論？

	主我	客我
(A)	「我」的名字叫陳旭陵	同學取綽號，叫「我」為陵哥
(B)	「我」長得不高但帥氣	外顯的「我」具文藝青年氣質
(C)	「我」個性害羞、內向	上臺說話的「我」會不知所措
(D)	「我」不怎麼循規蹈矩	師長眼中的「我」是個好學生

3. 「財團法人國際洪門中華民國總會」2013 年在鳳山舉辦首屆台灣國際武術文化節，吸引國內外近千名選手參與。會長表示洪門是合法立案的社團組織，也轉向公益發展，希望改變社會對洪門「神秘」的觀感。請依據志願結社概念，判斷該組織的相關敘述何者正確？

- (A)我國規範志願結社的法律，僅有「人民團體法」，該總會屬於其中的社會團體
(B)該總會強調經由向政府登記立案屬於合法社團，若未依法登記才算是非法組織
(C)該總會定位公益性質，屬於非營利的「第三部門」，可以發起並推動社會運動
(D)該總會宣揚「崇文尚武」的精神，故其登記成立的主管機關應是行政院文化部

4. 大法官釋字第 364 號，說明人民有平等「接近使用傳播媒體」之權利，而此權利包括「接近權」和「使用權」兩種概念。下列相關敘述何者正確？

- (A)民眾此項權利為憲法所保障的言論自由範圍，故應較媒體自由被優先適用
(B)「接近權」是指民眾可主動的在大眾媒體表達言論，例如訂正不實的報導
(C)公視設置公民新聞平臺，免費提供公民記者上傳訊息，是落實「接近權」
(D)網路公民媒體興起，能用較低成本快速地傳播訊息，可監督政府避免濫權

5. 文化具有多元的形式，有民間文化、官方文化，大眾文化、流行文化、精緻文化，主流文化、次文化等不同形式。下列相關敘述何者正確？

- (A)官方文化指社會中掌握較多資源的統治階層發展出來的文化，如：祭孔儀式
(B)精緻文化代表社會上層階級的生活方式，主要藉由傳播媒介推廣而形塑產生
(C)大眾文化具有週期變動的特性，通俗易懂而廣泛被大眾所接受與消費的文化
(D)主流文化是由社會菁英所建構，只存在於統治階層之中，並支配文化的發展

6. 下列對於我國檢察體系的相關敘述何者正確？

- (A)檢察體系隸屬行政院法務部，檢察總長的產生方式是由行政院長提請總統任命之
(B)依我國現行法制，總統與檢察總長均有可能被監察院提出彈劾案而負起政治責任
(C)檢察總長的起訴案，不是由地檢署的檢察官提出，而是由監察委員移送法院審理
(D)自檢察總長以下至各級法院檢察署檢察官間有上命下從關係，具公益性及主動性

7. 下列關於我國公民投票的敘述何者正確？

- (A)由人民提出之公民投票案，其步驟為：連署→提案→公審會審議→投票
(B)公民投票的優點是透過選舉權、罷免權之行使，以彌補代議政治的不足
(C)公民投票是直接民主的表現，可以避免侵害少數群體權利，並保障其基本權利
(D)憲法修正案的公民投票複決，必須有效同意票過選舉人總額之半數，才算通過

8. 解嚴前台灣政黨類型曾被歸類為「一黨獨大制」，目前大多稱解嚴前為「一黨威權制」，若依政黨制度的定義判斷解嚴前的台灣政黨體制，下列敘述何者正確？

- (A)「一黨獨大制」較正確，因當時執政的國民黨剝奪人民參政權利
(B)「一黨獨大制」較正確，因除國民黨外無其他政黨能獲取執政權
(C)「一黨威權制」較正確，因除國民黨外其他政黨都不具有競爭性
(D)「一黨威權制」較正確，因當時除國民黨外不存在其他任何政黨

9. 下表是我國憲法及增修條文中，有關中央政府組織職權的部分內容。請問表中「甲、乙、丙」所指的機關依序為何？

- (A)立法院、司法院、監察院
(B)司法院、司法院、監察院
(C)立法院、行政院、監察院
(D)司法院、行政院、立法院

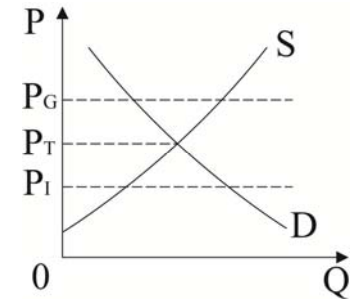
機關	職權
甲	總統、副總統彈劾案審理權
乙	公務員懲戒
丙	中央政府之決算審計權

國立嘉義高中 103 學年度第一次教師甄選-公民與社會科試題

10. 下列關於「和解」的敘述，下列何者正確？
 (A)為維護法律的尊嚴，法官不得在訴訟過程中，要求當事人雙方達成和解
 (B)訴訟外的和解，除非當事人不予訴究，否則並不能因此免除其刑事責任
 (C)訴訟外的和解其效力如同確定判決，日後當事者一方對同一事件不得再行訴訟
 (D)訴訟上的和解，若當事人不履行和解筆錄，則另一方應透過訴訟以保障其權益
11. 下列何者是以「特別預防理論」的角度所提出想法？
 (A)死刑不具教育受刑人的功能，受刑人也會失去改過自新的機會
 (B)死刑的功能是殺雞儆猴，遏阻人們想犯罪的衝動，降低犯罪率
 (C)死刑的功能是制裁違法者，藉此填補被害人或家屬心理的傷痛
 (D)死刑不但有以牙還牙的功能，也可以預防其他民眾的犯罪行為
12. 大正騎機車載小美，二人都沒戴安全帽，結果被警察取締。依道路交通管理處罰條例規定，機車駕駛人及附載座人未戴安全帽者，處駕駛人新臺幣 500 元罰鍰。如果警察以大正及小美二人均未戴安全帽為理由，處罰大正及小美各新臺幣 500 元罰鍰，請問警察對小美的處罰行為，已經違反了什麼原則？
 (A)法律優位原則 (B)權力分立原則 (C)法律保留原則 (D)男女平等原則
13. 下列有關我國法律上「覆議」與「復議」的敘述，何者較正確？
 (A)完成三讀的法律案，若有窒礙難行之慮，由總統直接向立法院要求覆議
 (B)法律因社會變遷不合時宜，行政院長得經總統核可後向立法院提出覆議
 (C)立委須在法律案三讀完成後，經二十人以上之連署或附議始能提出復議
 (D)立委對決議案提出復議，在第二讀會或第三讀會後皆可視狀況需要提出
14. 小王和娟娟結婚時並未以書面契約約定夫妻財產制，當兩人離婚時，小王的總財產為 800 萬元，其中有 600 萬為婚前財產，200 萬是婚後財產，娟娟的總財產為 400 萬元，其中有 100 萬為婚前財產，300 萬是婚後財產。但小王在婚後負有 250 萬元債務，娟娟在婚後獲得遺產 150 萬元。請問：「剩餘財產差額」應如何分配？
 (A)小王向娟娟請求 100 萬元 (B)小王向娟娟請求 75 萬元
 (C)小王向娟娟請求 50 萬元 (D)小王向娟娟請求 25 萬元
15. 下列法律位階適用的效力由高到低排列：
 (甲)嘉義市公有收費停車場管理自治條例 (乙)道路交通安全規則
 (丙)道路交通管理處罰條例
 正確順序為： (A)甲乙丙 (B)丙甲乙 (C)丙乙甲 (D)乙丙甲

16. 我國國民老王與受僱於他家三年的外籍女傭結婚，該女傭改以家庭主婦身分從事家務活動，請問這會對我國的國民所得會計帳造成什麼影響？
 (A) GNP 增加，GDP 減少 (B) GNP 減少，GDP 減少
 (C) GNP 不變，GDP 減少 (D) GNP 增加，GDP 不變

17. 若我國參與國際貿易的稻米市場如右圖，其中 S 代表供給，D 代表需求，而 P_G 是政府的收購價格， P_I 則是稻米的國際價格。若政府取消保證價格收購稻米，可確定我國稻米市場會有何變化？
 (A)生產者剩餘增加 (B)更多人買國產米
 (C)成為稻米出口國 (D)國產米供不應求



18. 電影文化城是否該維修，有人主張維修後重新開放(甲案)，也有人主張拆除後建新式遊樂場(乙案)，此案的成本效益分析如右表，請問選擇甲案的機會成本為何？
 (A)3 億元 (B)5 億元 (C)7 億元 (D)8 億元

	甲案	乙案
興建成本	0	4 億元
維修成本	3 億元	1 億元
觀光淨效益	4 億元	5 億元

19. 下列有關國際貿易的敘述，何者正確？
 (A)國際貿易產生的原因是各國擁有的資源和技術不同
 (B)國際貿易中一國如果獲利，必定表示有另一國損失
 (C)透過國際貿易，一國的消費組合必定會位在該國生產可能曲線上
 (D)進口會衝擊該國的國內產業，因此國際貿易不利該國的經濟成長
20. 小明以悠遊卡搭乘捷運上班，到辦公室後享受公司免費供應的咖啡，下班後以折價券享用吃到飽晚餐。根據以上內容，請問下列敘述何者正確？
 (A)若捷運車廂不擁擠，則雖有排他性但仍具共享性
 (B)免費商品即是公共財，如小明辦公室供應的咖啡
 (C)由於悠遊卡上未載明使用者姓名，故不算私有財
 (D)使用折價券吃到飽之晚餐有共享性，沒有排他性
21. 有三種財貨 X、Y、Z，若財貨 Y 的價格逐漸下降，使財貨 X 的需求量逐漸減少；而當財貨 Z 的價格逐漸上升，則使財貨 X 的需求量逐漸減少。請問財貨 X 分別和財貨 Y 和財貨 Z 屬於什麼關係？
 (A)替代品；替代品 (B)互補品；互補品 (C)替代品；互補品 (D)互補品；替代品

國立嘉義高中 103 學年度第一次教師甄選-公民與社會科試題

22. 下列關於「法律」與「法規性命令」的說明何者正確？
 (A)關於人民之權利義務，可以由行政機關以法規性命令定之
 (B)因法規性命令是由行政機關制定，所以多為原則性的規定
 (C)在國內法體系，法律是根據憲法所創設，效力僅次於憲法
 (D)法律經立法院三讀通過後，經立法院院長公告後即可生效

題組(一) 星海爭霸的世界裡，假設其國會議員選舉的方式和政體與德國相同，國會總席次為 201 席，多數決席次有 101 席，比例代表制有 100 席。某屆政黨的得票率與多數決議員當選席次如下表。請回答 23-24 題

	人族黨	神族黨	蟲族黨
多數決議員席次	47	35	19
政黨得票率	42%	50%	8%

23. 請問星海爭霸在本屆國會議員選舉中，人族黨共獲得幾席？
 (A)84 席 (B)89 席 (C)91 席 (D)94 席
24. 星海爭霸本屆國會議員的選舉結果，下列敘述何者正確？
 (A)神族黨當選的席次剛好過半，可獨立取得執政權
 (B)人族黨當選的席次雖最多，但不一定擁有組閣權
 (C)三個政黨皆無過半，聯合政府共有四種可能組合
 (D)蟲族黨扮演關鍵少數的角色，所以一定參與組閣

題組(二) 多元成家議題引發社會關注，2013 年 11 月 30 日，支持與反對的團體分別舉行集會遊行活動來表達立場。由「台灣伴侶權益推動聯盟」推動的多元成家方案，包括婚姻平權（含同性婚姻）、伴侶制度、及家屬制度三部分，其中涉及婚姻平權的民法部分條文修正草案，日前經立院一讀交付司法及法制委員會審查，相關修法首度出現通過的曙光，也讓正反辯論快速升溫。「下一代幸福聯盟」反對同性婚姻合法化，認為男男和女女只能被視作一種「同居」的方式，不能給予合法婚姻的同地位，並認為此案應交由全民公投；贊成者則回應，少數者權益應該被保護，不應該由全民公投決定。

25. 有關我國同性婚姻合法化的相關問題，請依據上文，判斷下列敘述何者正確？
 (A)「台灣伴侶權益推動聯盟」可算是屬於「恐同症」戰勝「異性戀霸權」
 (B)若立法院通過同性婚姻合法案，同性組成的家庭將可以共同收養小孩
 (C)若採公投方式，該案為全國性公投需立法院提案或總統交付才能成案
 (D)反對以公投方式解決，強調少數者權益應被保護，為效益主義的看法

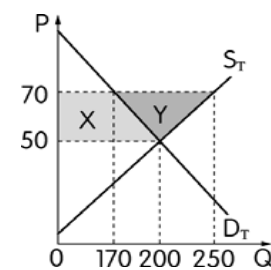
26. 請問以下對於力挺或反對多元成家方案團體所發起之活動的敘述何者正確？
 (A)正反方各自上街表達對多元成家方案立場的行動，是屬於體制外的社會運動
 (B)支持此方案社團的集體行動是為推動改革屬於社會運動，但反對者則不算是
 (C)依上文所述法案在立法院審查的進度，可推論反對者的行動屬於公民不服從
 (D)此議題深具爭議性，必須由政府主導進行社會運動，方能有效達成社會共識

題組(三) 同住一條街的易朗與如茵，自幼兩小無猜、青梅竹馬，兩人滿 18 歲後決定互許終身，雙方家長樂見其成，為兩人舉辦婚宴，一時蔚為鄉里佳話。但大學畢業後，如茵單身赴歐旅遊，與法國人萊歐有了一夜情，回國後生下混血兒夢竹，因為長得十分可愛，易朗決定原諒如茵，繼續維持婚姻生活，共同扶養女兒。

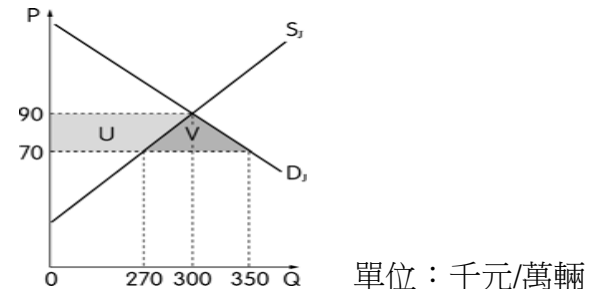
27. 關於兩人結婚的效力，下列敘述何者正確？
 (A)因當事人未成年，故婚姻無效 (B)因當事人未成年，故得撤銷
 (C)當事人雖未成年，但雙方家長同意即有效 (D)婚姻效力不確定，須成年後才有效
28. 關於兩人與夢竹、萊歐的關係，下列敘述何者正確？
 (A)法律上夢竹是萊歐的非婚生子女 (B)法律上夢竹是易朗與如茵的婚生子女
 (C)夢竹須經萊歐認領後才會成為婚生子女 (D)夢竹須經易朗準正才會成為婚生子女

題組(四) 台灣與日本自行車的市場供需圖如下，請回答 29~30 題

臺灣的自行車市場



日本的自行車市場



單位：千元/萬輛

29. 不考慮其他條件兩國進行自由貿易，當達到國際均衡價格時，下列敘述何者正確？
 (A)臺灣出口 50 萬 輛自行車到日本 (B)臺灣貿易後比貿易前多生產 80 萬輛
 (C)臺灣生產自行車的價格高於日本 (D)貿易後臺灣的國內消費量為 170 萬輛
30. 貿易後兩國社會福利，下列敘述何者正確？
 (A)臺灣的消費者剩餘增加 X (B)臺灣的生產者剩餘增加 X+Y
 (C)日本的生產者剩餘增加 V (D)日本的貿易利得：增加 U+V

國立嘉義高中 103 學年度第一次教師甄選-公民與社會科試題

非選擇題部分不必抄題，標明題號書寫即可

第貳部分、名詞解釋（共 12 分）

一、行政換軌（5 分）

二、比例原則（7 分）

第參部分、問答題（共 28 分）

一、請說明國家統治正當性與合法性的不同（4 分），
並進一步說明，若不具正當性時解決的方法。（4 分）

二、試從定義、法源依據、期間、適用情形、執行者等比較「緩起訴」與「緩刑」的不同。（10 分）

三、下圖為具有外部效果的市場供需圖，請根據附圖，說明

（一）此外部效果所造成的市場失靈。（4 分）

（二）政府介入欲追求社會福祉最大時，應採取的具體作為。（4 分）

（三）政府介入後均衡價格與均衡數量的變動。（2 分）

