

1. 現行中華民國童軍諾言是在民國幾年修訂的？
(A)元年 (B)64 年 (C)83 年 (D)98 年。
2. 於民國幾年我國童軍各級組織，根據人團法的規定，逐級改組為人民團體？
(A)元年 (B)64 年 (C)83 年 (D)98 年。
3. 世界童軍總部（World Scout Bureau）於 2014 年 6 月將辦公室遷至：
(A)吉隆坡 (B)馬尼拉 (C)紐約 (D)舊金山。
4. 童軍運動創始人貝登堡將軍與夫人的生日亦即童軍懷念日是在每年的：
(A)2 月 22 日 (B)2 月 25 日 (C)3 月 5 日 (D)6 月 1 日。
5. 根據童軍總會自 103 年 1 月 1 日起實施的「中華民國童軍長城、國花級童軍合格標準條文修正對照表」內容來看，下列何者已不包括在國花童軍所需具備的專科章？
(A)世界公民 (B)生態保育 (C)測量 (D)電工。
6. 如下圖團長的手勢是要將團排成何種隊形？
(A)馬蹄形 (B)團縱隊 (C)團橫隊 (D)並列縱隊。

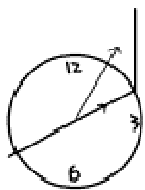



7. 「豹級」是屬於哪一個階段的童軍進程？
(A)稚齡童軍 (B)幼童軍 (C)童軍 (D)行義童軍。
8. 三腳吊灶應使用：(A)繫木結 (B)方回結 (C)十字結 (D)聯立剪立結。
9. 斥堠工程中之：(A)單腳瞭望台 (B)雙腳瞭望台 (C)三腳瞭望台 (D)四腳瞭望台，以上何者其搭建位置容易變換？
10. 如下圖中的結稱為：(A)方回結 (B)雙套結 (C)剪立結 (D)十字結。



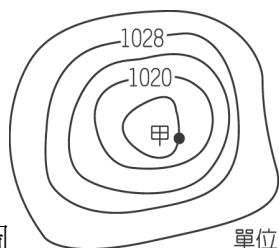
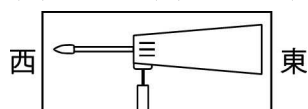
11. 春夏季於北半球欲辨認北極星，可利用哪一星座的天樞天璇做為指極星？
(A)大熊座 (B)小熊座 (C)仙后座 (D)獵戶座。
12. 欲測量一條河的寬度，何者估測法較為合適？
(A)橫倒法 (B)三角測距法 (C)目測法 (D)步測法。
13. 2011 年第 28 次亞太區童軍大露營的舉辦地點是：
(A)陽明山 (B)走馬瀨 (C)澄清湖 (D)墾丁。
14. 中華民國女童軍規律第五條是：
(A)女童軍是助人的 (B)女童軍是一切人的朋友，是每位女童軍的姊妹
(C)女童軍是謙虛的 (D)女童軍是愛護動物的。

15. 中華民國童軍規律第七條是：
(A)禮節 (B)公平 (C)負責 (D)快樂。
16. 如下圖火材棒陰影，從錶外蓋住平放的手錶的時針，此時和 12 之間所夾小角度之平分線所指的方向是：
(A)東方 (B)南方 (C)西方 (D)北方。



17. 右圖雙旗旗式  所打出的數字是：
(A)2368 (B)2865 (C)3126 (D)4719。
18. 國教署長吳清山指出，配合十二年國教適性揚才的特性，與童軍教育的服務與多元學習精神吻合，將民國：(A)100 年 (B)101 年 (C)102 年 (D)103 年，定位為「童軍振興年」，將加強童軍教育推廣，盼讓校校有童軍，發展品德教育。
19. 下列何者不屬於童軍運動有所謂的「三大制度」？
(A)小隊制度 (B)服務制度 (C)榮譽制度 (D)徽章制度。
20. 下列何者不是「冬季大三角」所在的星座？
(A)金牛座 (B)獵戶座 (C)大犬座 (D)小犬座。
21. 我國童軍運動創始紀念日亦即思源日是在每年的：
(A)2 月 22 日 (B)2 月 25 日 (C)3 月 5 日 (D)6 月 1 日。
22. 每年舉辦的童軍「JOTA&JOTI」活動主要是以什麼方式進行？
(A)衛星電視現場連線 (B)無線電通訊 (C)廣播電台 (D)航空活動。
23. 童軍步(Scout Pace)是一種實用的走步法，以跑 20 步和走(便步)20 步兩者相間隔而連續不斷的方式，可在多少分鐘走兩公里的路程？
(A)十分鐘 (B)十五分鐘 (C)二十分鐘 (D)二十五分鐘。
24. 三項登記是每年例行的團務工作，三項登記除了團務委員會登記和童軍登記之外，還有哪一項登記？
(A)團組織登記 (B)團財產登記 (C)團長登記 (D) 服務員登記。
25. 童軍的榮譽議庭 (court of Honor) 是用來討論團活動與議決團內重大事件，因此擔任榮譽議庭的主席為？(A) 團務委員 (B) 團長 (C)副團長 (D) 聯隊長。
26. 男女童軍徽最底下有一繩結，代表：
(A)日行一善 (B)笑口帶 (C)智仁勇 (D)準備。
27. 雙旗語中，以雙手持雙旗交叉置於雙腳前代表：
(A)開始 (B)已收到 (C)預備 (D)完畢 的意思。

28. 呈魚鱗狀的雲，通常稱為什麼雲？
 (A)積雲 (B)高積雲 (C)卷積雲 (D)卷雲。
29. 下列關於露營的常識，何者錯誤？
 (A)露營地面宜略帶斜坡，以便下雨容易排水
 (B)入帳後把鞋子正放在門口，鞋尖朝外
 (C)不易腐壞的食物可裝袋掛於枝幹上，在繩結上方放置阻隔物，以防齧齒動物侵蝕
 (D)背包裝填以取用方便、上重下輕、袋中有袋、穩定牢固為原則。
30. 貝登堡先生的墓碑上刻有⊙的記號，代表的是什麼？
 (A)我已回 (B)危險 (C)前進 (D)藏信。
31. 當中央與直轄市、縣（市）發生權限爭議時，應由立法院院會解決之，那當縣與鄉(鎮、市)間發生爭議時，則應由哪一單位會同中央各該主管機關解決？
 (A)縣議會 (B)行政院 (C)警政署 (D)內政部。
32. 下圖是某地方的氣象觀測儀。請問：由圖可知當時正吹著哪一個方向的風？
 (A)東風 (B)西風 (C)南風 (D)北風



33. 如圖 單位：百帕為甲地附近之等壓線圖，甲地之氣壓值應為多少百帕？
 (A)1026 (B)1024 (C)1016 (D)1012。
34. 下列何者非夏季的著名星座：
 (A)天鵝座 (B)天鷹座 (C)天琴座 (D)雙子座。
35. 有關天體發出光線的敘述，下列何者正確？
 (A)晚上，月亮比星星亮是因為月亮自身發出的光芒遠比星星亮
 (B)在夜空中有亮光的天體一定是恆星
 (C)彗星是可以自行發光發熱的太空碎粒
 (D)火星所發出的光是反射太陽的光。
36. 事故現場環境安全，但傷患已躺臥地上，這時你該做什麼？
 (A)檢查意識 (B)暢通呼吸道 (C)檢查傷勢 (D)打 119 求助。
37. 對不能說話、不能呼吸或咳嗽但清醒的異物哽塞成人，應該如何協助他？
 (A)給予腹部擠壓法 (B)給予 5 次背擊
 (C)施行手指掃探法 (D)在一旁照顧傷患，並鼓勵他咳嗽。
38. 內政部提出下列何者以參與社區總體營造計畫？
 (A)社區健康營造計畫 (B)環保模範社區 (C)形象商圈區域輔導計畫 (D)福利社區化。

39. 關於創傷止血的做法，下列何者正確？

- (A)傷肢要盡可能放低 (B)因輕傷而小出血時，人體的血小板可自然止住血
(C)在傷口上直接用手緊壓來止血 (D)要壓止血點時須覆蓋消毒紗布塊。

40. 「腫脹」是急性運動傷害常見的症狀，下列敘述何者正確？

- (A)若發生腫脹應予以推拿消腫 (B)發生腫脹會使患部的復原時間加長
(C)腫脹後可冰敷，直到發生麻木的感覺 (D)腫脹可用中醫放血的方法消腫。



41. 表示：(A)岔路 (B)此路不通 (C)匝道會車 (D)注意右方來車。



42. 右圖的交通標誌屬於那一個種類？

- (A)警告標誌 (B)禁制標誌 (C)指示標誌 (D) 通知標誌。

43. 台灣特有種，廣泛分布於台灣各地山區，海拔高度可由 100m 至 3200m，棲息環境以濃密之天然林為主，喜出現於裸露之岩石或水源地附近」。以上敘述所指的是什麼動物？


- (A)台灣黑熊 (B)台灣獼猴 (C)穿山甲 (D)台灣雲豹。

44. 十八世紀的義大利作家高基撰寫了一部以中國為背景的劇本「杜蘭朵」，之後由普契尼譜成歌劇，他甚至費心地去蒐集了一些中國民謠，穿插在歌劇裡，而膾炙人口的民謠「茉莉花」也被他放入歌劇中。由上可知，中、義兩種文化彼此接觸與交流後，產生了什麼結果？

- (A)文化創新 (B)文化統一 (C)文化傳承 (D)文化衝突。

45. 製圖前須將地圖上的通用符號記熟，請問右圖 代 表什麼？

- (A)電信局 (B)氣象台 (C)警察局 (D)消防隊



46. 架營火柴之前最重要的是劈柴，先將木柴劈成五級，下列何者是為二級柴？

- (A)發火柴 (B)燃燒柴 (C)引火柴 (D)定型柴

47. 手斧進行傳遞時，哪個部位遞給對方較為適合？

- (A)甲 (B)乙 (C)丙 (D)丁



48. 擔任童軍總會國家研習營的訓練員，須先受過 CLT 課程，在完成考核後獲頒：

- (A)六顆木章 (B)四顆木章 (C)三顆木章 (D)兩顆木章。

49. 以下關於童軍訓練營火應注意事項，何者正確？

- (A)為讓觀眾清楚表演內容，應加入旁白 (B)為呈現節目整體感，應由司儀報幕
(C)應面向營火表演 (D)對於表演者精彩表演應給予熱烈掌聲。

50. 童軍歌曲中之「三十六忠言歌」建國重在宏教，立德方可立民，所貴童軍訓練，恰是敦品樹人，果期必得成效，敢請務實求真。是由誰所填的詞？

- (A)張忠仁 (B)何應欽 (C)劉元孝 (D)方純青。