

科目：公民科

選擇題：共 70 題，總分 100 分。第 1~40 題，每題 1 分；第 41~70 題，每題 2 分

1. 文化人類學家 Turner 認為社會裡常存在一些超越既有規範的群體，發揮共融社群(communitas)作用，請問依據 Turner 社群與社會的關係為何？
 - (A) 社群可避免社會制度逐漸過於僵化
 - (B) 社群強化社會規範功能以穩定社會
 - (C) 社群突顯秩序的必要性，反而達成社會控制效果
 - (D) 社群可凝聚特定群體向心力，提升整體社會認同
2. 後殖民的文化研究學者 Homi Bhabha 提出混雜性 (hybridity) 一概念，來解釋文化之間的互動。請問下列何者最可能為此概念之意涵？
 - (A) 不同文化相遇時，即便相互學習也保有各自獨特性
 - (B) 強勢與弱勢文化相遇時，各文化承載者的認同建構都會受雙方影響
 - (C) 文化發展歷程，強勢文化不斷左右弱勢文化的內容
 - (D) 各種文化在頻繁互動後，往往會相互學習因而產生出新的文化風貌
3. 文化人類學發現以親屬關係為主的部落組織，僅有初步政治組織，而群體成員不僅是親屬成員的城邦等，其政治組織則越接近現代國家，請問下列何者最能說明此區別？
 - (A) 群體成員越複雜，越需要分工繁複與權力集中的政治組織
 - (B) 政治組織制度的良好與否，會隨著時間演進不斷修正進步
 - (C) 群體成員越是具備血緣關係，越難以發展出民主政治制度
 - (D) 政治組織的分工程度與群體成員的人數之間有著正向關係
4. 象徵人類學家強調所謂的文化，就是人們所共同依循的一套世界觀與生命觀，由此可知象徵人類學者所採取的文化定義最可能為下列何者？
 - (A) 文化是人類生活的總體
 - (B) 文化受下層結構所決定
 - (C) 文化是一群人所共享的價值體系
 - (D) 文化包含器物、制度與理念三層次
5. 語言人類學注意到語言並不只是一種溝通工具，更是一種象徵資本，下列何者最能反映此一說法？
 - (A) 各國語言皆訂有官方語言
 - (B) 各國教育政策皆列有外國語文課程
 - (C) 不同語言的文法規則會影響語言使用者有不同思考模式
 - (D) 不同語言雖各有特色，但所有語言仍共享基本語言模式
6. 瑪格麗特·米德 (Margaret Mead) 以薩摩亞三部落的研究為基礎，提出了文化性別，其對於性別概念的主要修正為何？
 - (A) 男性並非必然具備生理優勢
 - (B) 男女特質並非由生物性決定
 - (C) 不同文化中掌握權力的性別各有不同
 - (D) 母系社會的存在更早於父權體系社會
7. 社會學研究指出定義偏差行為的力量裡，新增了醫療化的力量，使得複雜的社會問題去政治化，請問此研究所評論的現象主要為下列何者？
 - (A) 以醫療的科學角度進行討論，可避免權力介入干預
 - (B) 由醫學角度理解偏差行為，可導正不當貼標籤作用
 - (C) 加入醫學共同治療，導致不同規範體系的相互角力
 - (D) 由醫療方式處理問題，導致忽略制度與結構之改革
8. 解決貧窮是許多社會政策的重要目標，但晚近調查發現貧窮不僅意味經濟資源缺乏，更導致難以接近其他面向資源，因而開啟下列何項議題之研究？
 - (A) 階級剝削
 - (B) 社會失序
 - (C) 階級複製
 - (D) 社會排除

9. 馬克思主義認為資本主義使勞動成為去技術的機械化操作勞動歷程，而下列何項因素更使得勞動者缺乏籌碼與資本家協商爭取權益？
- (A) 勞動市場存在大量的產業後備軍
 - (B) 缺乏可自由轉換雇主的勞動市場
 - (C) 國家能建立健全的社會安全體制
 - (D) 全球化下各國商品流通更為便利
10. 女性主義主張的個人即政治，其所指為何？
- (A) 個人即使不願參與政治，政治權力仍必然干預個人
 - (B) 女性須透過參與政治，才能改變女性長期弱勢處境
 - (C) 個人的生活事務，皆無可避免受到權力結構所影響
 - (D) 女性與男性之間的不平等關係，反映政治權力分布
11. 媒體研究者指出媒體是一種再現體系，而非傳遞真實的機制，所謂再現其意涵最可能為下列何者？
- (A) 媒體是經過選擇的符碼體系
 - (B) 媒體往往扭曲真實創造虛擬
 - (C) 媒體僅包含部分真實多數內容為虛假
 - (D) 媒體創造的意涵有待閱聽人多元解讀
12. 解釋社會運動之所以出現的相關理論，由強調心理剝奪感，轉為重視建構特定文化框架（framing），此文化框架所指為何：
- (A) 引發公眾感受到特定價值的重要性
 - (B) 依據社會既有的傳統信念提出訴求
 - (C) 讓不同文化面貌得以呈現於公眾論辯中
 - (D) 透過文化資本的聚集產生動員群眾力量
13. 法國社會學家涂爾幹的自殺論一書，分析比較不同地區的自殺率，發現自殺率較高的地區往往是社會規範解組區域。作為社會學者，涂爾幹嘗試提出的論點為下列何者？
- (A) 自殺起因於個人能否適應社會規範
 - (B) 解釋個人行動時，必須考量社會因素
 - (C) 個人的行為深受個人所擁有的社交網絡所影響
 - (D) 不同區域的社會規範強度不同因此約束效果也不同
14. 社會學研究指出消費文化興起，影響個人的消費行為，下列何者最可能為學者所指出的消費文化現象？
- (A) 消費行為模式走向 M 型化，強化貧富不均
 - (B) 收入較低的家庭其生活必需品支出比例較高
 - (C) 消費與文化模式結合，因而得以提升消費品味
 - (D) 消費行為展現出的特定認同成為消費核心因素
15. 年底四年一次的九合一地方公職人員選舉再度舉行，加上由民間推動的幾項公投案若順利連署成案，選舉規模將盛況空前。小林是新北市居民，同時也是本次大選的首投族，家人給其許多提醒，在不考慮公投是否成案的情況下，下列何者在某些地區適用上可能有誤？
- (A) 媽媽：「現任市長因兩任即將屆滿，依法不得再次競選連任。」
 - (B) 爸爸：「議員選制是採複數選區制，一次僅圈選一名候選人。」
 - (C) 姐姐：「投票時應遵守無記名原則，禁止有洩漏選票的行為。」
 - (D) 哥哥：「本次選舉將領取三張選票，包含市長、議員及里長。」
16. 新聞報導摘要：「國內四大網路直播業者在網站會員註冊頁上，並未確認使用者年齡，法界人士指出，這些業者在查證、把關使用者年齡的防護程度不足，有影響兒童及少年身心健康之虞，恐違反相關法律，最重會被處以勒令停業一年」。根據我國相關法令判斷，上述違反相關法律者所應負起的法律責任類型，與下列何者相同？
- (A) 年年騎乘機車時未戴安全帽，被員警攔下開罰
 - (B) 安安網路直播時因轉播電影遭到著作權人追究
 - (C) 平平因吸毒發出惡臭，被鄰居發現向警局告發
 - (D) 冬冬不小心打破友人骨董花瓶，遭到友人求償

17. 4月27日，南北韓舉行領袖雙峰會，金正恩也成為韓戰停戰65年以來，首位踏入南韓國土的北韓領導人，並宣布停止核試，化解原先南北韓間的緊張情勢。請問南北韓間的緊張情勢，主要可歸因何者？
- (A) 民族主義 (Nationalism)
 - (B) 分離主義 (National Separatism)
 - (C) 南北衝突 (North-South Conflict)
 - (D) 東西衝突 (East-West Conflict)
18. 憲政主義 (constitutionalism) 認為政府權力應受到約束，並保障人民自由權利，透過憲法來實踐民主法治、權力分立的原則。下列哪些政府制度最能彰顯此一精神？
- (A) 地方分權：中央及地方政府平行分權
 - (B) 政黨政治：以定期選舉向執政者課責
 - (C) 半總統制：總統與總理間的換軌制度
 - (D) 公投複決：以直接民主實現主權在民
19. 請問「學校實施公民教育，將有關國家及政治運作的知識、價值灌輸給學生」，在政治學理論中界定屬於何種歷程的重要媒介？
- (A) 政治傳播化
 - (B) 政治社會化
 - (C) 政治教育化
 - (D) 政治民主化
20. 國內曾遭受嚴重禽流感侵襲，疫情擴散迅速且十分嚴峻，政府為抑制疫情擴大，乃依相關法令之規定，進行大規模撲殺作業，農民因而損失慘重。對此，行政院表示，為了彌補農民損失，對於主動通報、禽隻遭撲殺的農民，將從現有補償6成，提高到全額補償。農委會亦宣布，撲殺補償費由原來地方與中央各負擔1/2，提高中央負擔比例最高至95%，以儘速協助農民度過難關。請問：若就損失補償的類型而言，上述案例中政府發給農民的補償費應屬下列何者？
- (A) 基於公益徵收的損失補償
 - (B) 基於信賴保護的損失補償
 - (C) 因防止危險所生之損失補償
 - (D) 因執行救災所生之損失補償
21. 王姓男子在開賽前夕寫了一張投注洋基贏，委託陳姓男子幫他到住家附近的OO商行代為投注；卻沒想到，該商行的林姓員工操作失誤，投注洋基輸。但王姓男子直到隔日下班後才發現投注內容畫錯，不僅未贏彩金，連一萬元投注金也沒了，王某告上法院向彩券商求償二萬元的本金加彩金，結果法院判定王姓男子敗訴。下列針對此案例之敘述，若依我國相關法令判斷，何者正確？
- (A) 投注後雙方銀貨兩訖，就算還沒開獎也不得提出更正之要求
 - (B) 投注店表示「彩券離櫃概不負責」，符合消費者保護法的規定
 - (C) 因為是彩券行林姓員工操作失誤，所以裁判費應由彩券行負擔
 - (D) 投注客有檢視彩券的義務，當場未提異議，表示已接受契約內容
22. 某演藝人員因吸毒案被判刑5個月，但已繳納罰金，數月後4度沾毒又被捕，接受偵訊後，被裁定4萬元交保。下列針對本案的敘述，若依我國相關法令判斷，何者錯誤？
- (A) 他因前案被判刑5個月，已繳納罰金，前案的5個月視同刑期執行完畢
 - (B) 他所犯的前三案都已經結案，若他真的第4次吸毒，不算吸毒累犯
 - (C) 他若因第4度吸毒而判刑，服刑前將先受勒戒及強制戒治處分
 - (D) 他若施用第一、二級毒品，將受到有期徒刑宣告。
23. 入冬以來，臺灣中、南部空汙問題非常嚴重。日前，臺灣健康空氣行動聯盟、南部反空汙大聯盟等公民團體，同步在臺中與高雄舉辦「反空汙、救健康」的遊行活動，提出燃煤減量、還我呼吸權等訴求。就我國《憲法》所保障人民基本權利的種類而言，民眾走上街頭所行使的基本人權與下列何者相同？
- (A) 參加國家考試擔任地方公務人員
 - (B) 反空汙團體向環保署遞交請願書
 - (C) 在臉書上發表對年金改革的看法
 - (D) 考試時延長視覺障礙生作答時間

24. 平平為了認識相關司法人員，上網搜尋相關資料，下圖是他蒐集到的一份文件。根據內容判斷，下列何者也是該司法人員的職權之一？

被告：陳○○

上列被告因傷害等案件，已經偵查終結，認應提起公訴，茲將犯罪事實及證據並所犯法條分敘如下：

.....

- (A) 主動偵辦國內黑心食品案件
 - (B) 受當事人委託進行訴訟辯護
 - (C) 判決被告應賠償原告之損失
 - (D) 負責執行調解告訴乃論案件
25. 平平與妻子在返家途中，遭到歹徒的尾隨與襲擊，他為保護妻子，奮力搶奪歹徒手中的木棒，卻不慎打傷歹徒。依據我國《刑法》規定判斷，下列敘述何者正確？
- (A) 平平可以主張正當防衛，但他打傷歹徒，仍須負起完全刑事責任
 - (B) 反擊行為若屬正當防衛，則不構成犯罪，平平無須負起刑事責任
 - (C) 歹徒是攻擊平平的妻子，並非攻擊平平，平平不可主張正當防衛
 - (D) 平平夫妻兩既沒有受傷，也沒損失財物，平平不可主張正當防衛
26. 剛滿 18 歲的平平到大賣場購物，趁店員不注意，順手牽羊拿走展示用的新款智慧型手機，並交給 17 歲的女友安安代為藏匿。針對上述事例，下列相關敘述，何者符合我國現行法律之規定？
- (A) 平平屬於限制責任能力人，得減輕其刑
 - (B) 兩人皆適用《少年事件處理法》來處理
 - (C) 平平可以和店家採調解的方式解決紛爭
 - (D) 安安幫男友藏匿手機，觸犯的是贓物罪
27. 朝野立委針對層出不窮的酒駕事件傷及無辜的生命，提出應該效法國外，將判處的罰金提高到年收入的十分之一以示警惕。若依我國相關法令判斷，下列何者所需承擔的法律責任，與上述朝野立委的提案所欲加重酒駕者的法律責任相同？
- (A) 駕駛人某丁遇路邊臨檢，因無照駕駛遭罰
 - (B) 房東發函給租屋房客，追討積欠之房租金
 - (C) KTV 深夜留容少年在店內消費，被裁處勒令歇業
 - (D) 對鄰居不滿而破壞其腳踏車洩憤，遭法官判處拘役

28. 以下是在安安手機上看到她與平平兩人在 LINE 上的對話內容——



我雖剛滿 18 歲，但已經能簽訂買賣契約，即使父母知情後不同意，契約仍具有法律效力。

已讀

我已 19 歲，雖然比你大一歲，但一週前購買高價相機的交易，後來卻無法律效力。

根據對話內容及我國相關法令判斷，下列何者的敘述最符合兩人的情形？

- (A) 平平是屬於限制行為能力人
- (B) 平平的婚姻狀況應該是未婚
- (C) 安安可能正受到監護宣告中
- (D) 安安未以書面簽訂買賣契約

29. 根據我國《憲法》的規定：「以上各條列舉之自由權利，除為防止妨礙他人自由、避免緊急危難、維持社會秩序，或增進公共利益所必要者外，不得以法律限制之。」在此條文中，「必要」與「以法律限制之」兩個詞彙，分別代表哪兩個法律原則？
- (A) 比例原則；法律保留原則
(B) 比例原則；法律優越原則
(C) 平等原則；法律保留原則
(D) 平等原則；法律優越原則
30. 刑事警察局與東南亞國家掃蕩跨國詐騙集團，曾將臺籍上百名詐欺犯以包機押返，但當年臺中地院審結三案共 26 人，其中 17 人被判緩刑、8 人易科罰金，僅 1 人被判刑 1 年，這個判決除讓檢方詫異，也與社會期待有極大落差。檢警首長乃呼籲承審法官考量跨境犯罪具有集團性、結合高科技設備、境外合作偵辦案件調查取證之不易等因素，以及造成民眾財產鉅大損害與危害國家形象等情形，審慎科刑。依上所述判斷，檢方希望法官可以「審慎科刑」，應是基於下列哪一項原則？
- (A) 審檢分立原則
(B) 罪刑法定原則
(C) 從舊從輕原則
(D) 罪責相當原則
31. 小涵大學畢業後應徵了 3 份工作，甲工作月薪 35,000 元，須額外花費通勤費用 5,000 元；乙工作月薪 40,000 元，須另外支付食宿每月費用 20,000 元；丙工作則是月薪 25,000 元。若僅依上述資料判斷，在不考慮其他條件下，若小涵最後選擇甲工作，則機會成本為多少？
- (A) 75,000 元 (B) 40,000 元 (C) 30,000 元 (D) 25,000 元
32. 某項消費行為的研究發現：國人目前流行在飲用珍珠奶茶時加入黑糖，然而多飲用珍珠奶茶卻會減少消費者對咖啡的消費。在這個研究結論下，若不考慮其他條件，當珍珠奶茶的價格一路飆漲時，飲料市場最可能出現下列何種情況？
- (A) 消費者對黑糖的需求下降
(B) 消費者對咖啡的需求量上漲
(C) 消費者對珍珠奶茶的需求下降
(D) 消費者對珍珠奶茶的偏好度提高
33. 假設世界上只有甲、乙兩國，下表（一）是兩國國內筆記型電腦的市場供需資料，若兩國開放自由貿易，在不考量運費、匯率、關稅等條件下，當國際筆電市場達到均衡時，國際均衡價格為 X 元，關於兩國筆記型電腦進出口情形，下列何者正確？

表（一）

價格（元 / 每臺）		24,000	22,000	20,000	18,000	16,000
甲國	供給量（萬臺 / 年）	15	12	10	7	5
	需求量（萬臺 / 年）	7	9	10	12	14
乙國	供給量（萬臺 / 年）	9	7	6	3	1
	需求量（萬臺 / 年）	5	7	9	12	15

- (A) $X > 20,000$ ，甲國出口量 > 3 萬臺
(B) $X > 20,000$ ，乙國出口量 < 3 萬臺
(C) $X < 22,000$ ，甲國進口量 > 3 萬臺
(D) $X < 22,000$ ，乙國進口量 < 3 萬臺
34. 國內生產毛額（GDP）是常見用以衡量經濟發展狀況的指標，指一國在特定期間內，國內所生產最終產品與勞務之市場價值的總和。下列選項所述之經濟行為，何者將會計入我國的 GDP？
- (A) 在我國賣場販售日本品牌、中國製造的冷氣機
(B) 我國旅美投手陳偉殷在美國職棒大聯盟的年薪
(C) 國內仲介業者向客戶推銷房屋所賺取的仲介費
(D) 我國的國民向證券商購買新臺幣 100 萬元的股票

35. 美國總統川普指控中國以低於其本國市場價格或低於成本價格，將其商品拋售到美國市場的傾銷行為，已嚴重影響到美國經濟，危害到美國國家利益，並表示將對中國輸入美國的部分產品，課以高關稅。若僅以上述內容判斷，針對兩國匯率對其貿易的影響，下列何者較可能被美國加以引用說明？
- (A) 人民幣被高估，美元應對人民幣升值，減少中國商品輸入
 - (B) 人民幣被低估，美元應對人民幣升值，增加美國商品輸出
 - (C) 人民幣被低估，利於中國出口，人民幣應對美元升值，以減少中國商品進口
 - (D) 人民幣被高估，利於中國出口，美元應對人民幣升值，以增加美國商品輸出

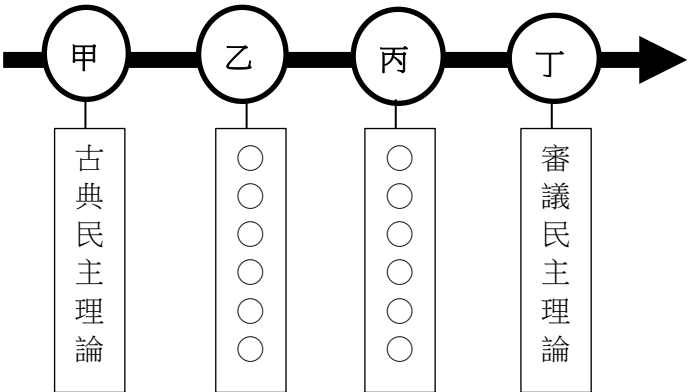
36. 兩位老師針對新課綱「國家和政府有何區別」的條目進行備課討論。右表（二）是他們所做的資料整理，後來加入討論的另一位老師看了表中資料後說：「有一個地方的資料可能有爭議，需要再進一步討論修改。」，請問這個爭議最可能發生在表中何處？
- (A) 甲 (B) 乙 (C) 丙 (D) 丁

	國家	政府
(甲) 地位	全體人民的抽象名詞	制定、表達並執行國家意志的統治機關
(乙) 資格	享有法律上權利義務主體資格之人格	行使國家主權的一種工具
(丙) 持續	會隨政府更迭被取代	隨時可能更換
(丁) 權力	無限權威至高無上	基於人民同意而有正當性

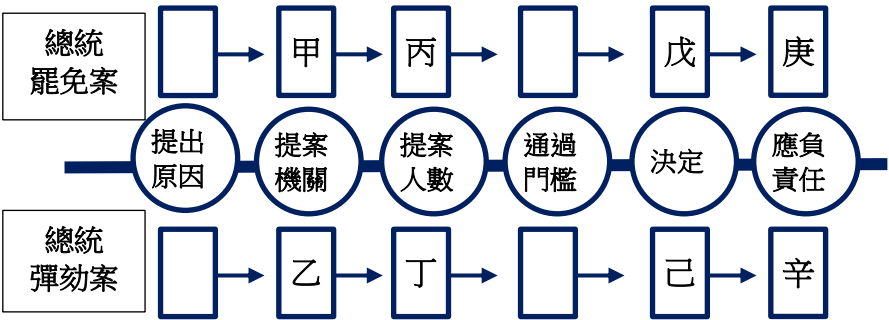
37. 民主理論學者薩托利 (Giovanni Sartori) 曾指出：「為了確定民主是什麼，我們必須先確定民主不是什麼。」由於所有國家都會宣稱自己是民主國家，如何理解民主與非民主的差異更顯重要。右表（三）是某位同學整理的民主政治與非民主政治比較，但有一處被污漬遮蔽，請問該處填下列何項資料最適切？
- (A) 國際承認 (B) 政黨輪替 (C) 社會流動 (D) 公民身分

表（三）			
民主政治	人民主權	具有普遍性	重視基本人權
	主權歸屬		人權狀態
非民主政治	特定的個人、團體、政黨	不具普遍性	箝制迫害基本人權

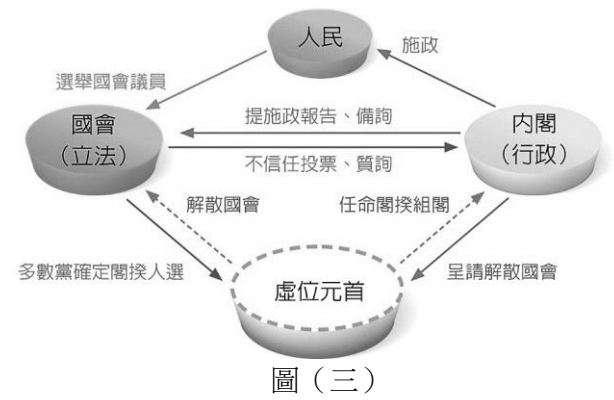
38. 民主政治起源於西方，而近代思想家對民主政治的功能與實際運作有許多爭辯，並產生各種不同的理論，一般將其演變歸納如圖（一），請問下列哪個描述，符合圖中丙理論所強調的重點？
- (A) 政策的通過需要遊說不同社會團體以爭取認同，同時更要在國會取得多數席次的支持
 - (B) 公共政策形成過不只是議員投票結果，特別要重視人民對爭議議題的討論與建立共識
 - (C) 人民應將權力委託給具知識與地位的社會菁英，由他們領導國家專業決策與有效執行
 - (D) 公民的政治行為是理性，期待透過直接民主式的參與提升公民對社會的關懷與責任感



39. 在我國經由人民選舉產生的總統有任期保障，但在其任期內也有可能因為某些因素經罷免或彈劾的通過而去職下台。右圖（二）是某位同學整理的總統罷免案與彈劾案比較架構，下列就其對應填入資料的說明何者正確？
- (A) 甲和乙資料內容不同
 - (B) 丙的人數規定低於丁
 - (C) 戊須由憲法法庭審理
 - (D) 庚辛僅須負政治責任



40. 「權力分立」是當代民主國家建構政府體制的基本原則。政府的權力分配給行政、立法、司法部門，強調部門間的權力相互制衡，目的在於避免政府濫權，以保障人民自由權利，並透過適度分工，提高政府運作的效率及效能。右圖（三）是某國家政府體制的運作示意圖，下列對此政府體制的分析何者正確？



41. 我國《公民投票法》自 2003 年立法以來，先後歷經六次全國性公投，卻都因通過的門檻過高而遭否決，「雙二分之一」的通過門檻乃被詬病為「鳥籠公投」。2017 年立法院三讀通過修正案，除了將提案、連署、通過門檻全面調降，也通過多項重要的修正內容。請問下列何者不是此次修正的結果之一？

- (A) 廢除原來負責審查公投提案的公投審議委員會
- (B) 通過門檻總有效同意票比不同意票多就算通過
- (C) 年滿十八歲，未受監護宣告者，有公民投票權
- (D) 地方性公投得採不在籍投票方式，法律另定之

42. 選舉是民主國家政治參與最常見的管道，也是選民展現民意的方式，政府統治的合法性由此獲得認同。為了使得選舉結果能充分反應民意，確保公平投票，必須重視選舉原則的落實。右圖（四）是某學生報告海報，依圖中內容可推論其最可能正在說明下列何項選舉原則？

✍ 英國婦女一直到 1948 年才有投票權

✍ 瑞士則是到 1971 年婦女才有投票權

✍ 沙烏地阿拉伯 2015 年婦才有投票權

- (A) 普通
- (B) 平等
- (C) 直接
- (D) 無記名

43. 右表（四）是今年我國境內，甲、乙兩位刑事訴訟案件被告目前法院審理判決情形，若依表中資料與 106 年司法院大法官釋字第 752 號解釋文，有關刑事訴訟案件上訴於第三審的解釋內容判斷，下列說明何者正確？

表（四）

甲	乙
妨害名譽	侵占遺失物
一審有罪	一審無罪
二審有罪	二審有罪

- (A) 甲依規定不得上訴於第三審，此規定有違保障人民訴訟權的意旨
- (B) 甲和乙兩人所犯均為定刑較輕的罪，依規定均不得上訴於第三審
- (C) 為避免司法資源浪費，乙不得提起第三審上訴，屬立法形成範圍
- (D) 基於保障人民訴訟權應給予一次上訴救濟機會，乙可上訴第三審

44. 2018 年初立法院三讀通過《勞動基準法》修正，二月時勞動部公告《勞動基準法施行細則》修正條文，雖然修法過程中社會上有許多不同意見，但仍在三月正式上路。針對上文內容，下列說明何者正確？

- (A) 就法律位階分析，《勞動基準法施行細則》應是屬於行政規則
- (B) 就法律功能探討，其制定修改有助於保障公平的市場勞動參與
- (C) 就法律內容判斷，該法規定著重在勞工團結權與爭議權的保障
- (D) 就法律分類區別，該法應屬成文法、社會法、普通法與程序法

45. 為了保障人性尊嚴，個人需要特定權利，以利其自我實現，這些權利便是人人所應被保障和擁有的基本人權。以下是大明在 LINE 群組有關基本人權的提問，請問群組裡的成員提供下列何項答案才正確？



大明

求解答，「國民處於消極地位，主張國家排除國家統治權支配，以確保人民免受國家權力的侵害或不當干預。」我國憲法保障的基本權利哪些較符合上面的描述？

- (A) 自由權、參政權
- (B) 參政權、社會權
- (C) 社會權、平等權
- (D) 平等權、自由權

46. 某甲在臉書上 PO 文：「我只是把我從日本帶回來多買的止痛藥，放蝦皮上拍賣。想說不要浪費，順便貼補一點旅遊費用，怎麼就接到衛生局的公文，說我違反《藥事法》的規定呢？」，網友熱心提供相關法律規定如圖（五）。請依 PO 文與圖中資料判斷，下列說明何者正確？

- (A) 某甲違反行政法規，僅須承擔行政責任
- (B) 若某甲販售為禁藥，衛生局可逕行處罰
- (C) 第 2 項處罰的內容，未提及從刑的資料
- (D) 若不服第 1 項處罰，可以向衛生局請願

1. 在台灣販售藥品，依法是需要申請許可執照的。若沒有先經過核准登記、領取許可執照而直接營業，將被處 3 萬元至 200 萬元不等的罰鍰（藥事法第 27 條第 1 項、第 92 條規定參照）。
2. 販賣、供應轉讓禁藥，則可處七年以下有期徒刑，再併科新臺幣 5000 萬元以下罰金（藥事法第 22 條、第 83 條規定參照）。

圖（五）

47. 某老師在上課時發現，學生對於「權力」與「權利」兩個概念，經常產生混淆，因此想用生活中實例來說明其區別，表（五）是他以四個人物，草擬的行為舉例，請問，何者的行為舉例最適合用來說明「權力」與「權利」的區別？

表（五）

人物	例一	例二
法官	投書媒體表達對大學自治的看法	自費旅行前往美國最高法院參觀
委員	參與年金改革法律修正案的審議	接受選區內選民請願了解其訴求
校長	要求學校老師依法落實教學評量	定期參加校長協會的讀書討論會
老師	登記參選九合一的地方公職選舉	出售一幢房子準備參選公職經費

- (A) 法官
- (B) 委員
- (C) 校長
- (D) 老師

48. 我國《刑事訴訟法》中第 154 條明定「被告未經審判證明有罪確定前，推定其為無罪。犯罪事實應依證據認定之，無證據不得認定犯罪事實」，此為犯罪追訴處罰的基本原則。請問下列何項敘述可視為此項原則衍生的內涵？

- (A) 刑罰的種類與處罰的範圍，在刑法中必須有具體明確的規定
- (B) 刑法的效力僅及於法律施行之後，不及於公布施行前的行為
- (C) 在刑事訴訟審判中的舉證責任，應該由檢察官或原告來負擔
- (D) 法律未規定的事項，不可援引適用類似性質法條而加以處罰

49. 刑事訴訟的審判程序中，對於法官的裁判若有不服可採取抗告、上訴、再審、非常上訴等救濟方式。下列對上述救濟方式的說明何者正確？

- (A) 在確定判決前，當事人對於法官的裁定不服，可提起上訴，請求撤銷或變更
- (B) 在確定判決前，當事人對於法官的判決不服，可提起再審，請求撤銷或變更
- (C) 在確定判決後，檢察總長認為法官判決違反法令，可提起非常上訴，請求撤銷或變更
- (D) 在確定判決後，檢察總長認為法官判決所認定事實不當，可提起抗告，請撤銷或變更

50. 媒體報導，某甲今年 17 歲且已結婚，假借拍賣名義在網路上販售物品，當消費者訂購付款後卻不出貨，受騙的民眾報警，後來某甲被以詐欺罪移送法辦。針對上述報導內容，下列相關法律規定的說明何者正確？

- (A) 某甲最可能得到的處罰是「拘留」與「罰鍰」
- (B) 詐欺罪部分應該依《少年事件處理法》審理
- (C) 某甲的父母親必須承擔民事的連帶賠償責任
- (D) 網路上販售物品卻不出貨違反權利濫用原則

51. 在現代社會中，人人須仰賴國家社會的保護與照顧，但絕對的權力帶來絕對的腐化，目的良善並不能擔保行使的手段合宜。政府的行政行為對人民發生侵害時，須有相關法制來防止與除去。若依我國相關法令判斷，下列對於人民遭受行政行為侵害時的救濟途徑的說明何者正確？

- (A) 訴願屬於行政外部救濟，依《行政程序法》提出
- (B) 行政訴訟屬於社會補償，依《行政訴訟法》提出
- (C) 國家賠償須先協議不成，再向普通法院提出訴訟
- (D) 行政補償所補償的損害，必須是政府濫權所造成

52. 據報載：房地合一稅上路後，政府針對短期內出售房地產者，將課徵高額稅率，因此投資短期房地產的民眾大幅減少，建商亦同時決定減少在全國各地推出售屋建案。若僅依報載資料判斷，在其他條件不變的情況下，下列對於短期房地產市場供需變動之敘述，何者正確？

- (A) 供需線皆向左移動，均衡價格變化不確定
- (B) 供需線皆向右移動，均衡價格變化不確定
- (C) 供給線向右移動，需求線向左移動，均衡價格下降
- (D) 供給線向左移動，需求線向右移動，均衡價格上升

53. 四位同學為了加強語文程度，在同一時間下，不是寫英文題目就是寫國文題目，下表（六）為四人完成一份國文或英文題目所需要花費的時間。若僅依上所述，在不考慮其他條件的情況時，哪位同學完成國文题目的機會成本最低？

表（六）（單位：分鐘/份）

姓名 題目	安安	奇奇	秀美	彥霖
國文	45	20	50	25
英文	40	30	60	20

- (A) 安安
- (B) 奇奇
- (C) 秀美
- (D) 彥霖

54. 天龍國與地虎國都有牛肉產業，但地虎國因其產業規模大，牛肉更為便宜。若兩國簽訂自由貿易協定，進行國際貿易，此舉對地虎國的牛肉市場將有何影響？

- (A) 牛肉降價，在供給法則下，有利於生產者
- (B) 牛肉漲價，在需求法則下，不利於生產者
- (C) 牛肉降價，國內供不應求的部分來自進口
- (D) 牛肉漲價，國內供過於求的部分用於出口

55. 過去二十多年來中國經濟成長十分快速，其經濟成長率超過 10%，但近年來中國政府宣稱不再一味追求經濟成長率，據報載，2017 年中國 GDP 增長了 6.9%，略高於 2016 年的 6.7%。若僅依上所述，在不考慮其他條件的情況時，下列有關中國大陸 GDP 指標的敘述，何者正確？

- (A) 經濟成長率無法計算非市場交易的生產活動
- (B) 經濟成長率越高，其 GDP 的總值一定也越高
- (C) 2017 年經濟成長率低於 10%，代表生產力下降
- (D) 2017 年 GDP 增長率比前一年高，代表出口增加

56. 若臺灣與南韓都生產同質性高的電子產品與鋼鐵產品，臺灣 1 年可以生產 3 億單位的電子產品或 9 億單位的鋼鐵產品，南韓 1 年可以生產 4 億單位的電子產品或 8 億單位的鋼鐵產品。在不考慮其他條件的情況，若只考慮臺韓二國，下列關於兩國貿易的敘述，何者正確？

- (A) 開放貿易前，臺灣生產電子產品的機會成本較低
- (B) 開放貿易後，對臺灣有利，對南韓則較無利可圖
- (C) 開放貿易後，南韓能取得更為便宜的鋼鐵產品
- (D) 臺灣的鋼鐵業者可能反對與南韓進行自由貿易

57. 據報載：「行政院主計總處預測 107 年經濟成長率為 2.42%，較 106 年 11 月預測 2.29% 上修 0.13 個百分點，我國的人均 GDP 為 2 萬 5,893 美元，CPI 上漲 1.21%。」僅依上述報載資料，以下關於我國 GDP 及 GNI 的敘述，何者正確？

- (A) 經濟成長率係採用名目 GDP 計算得出
- (B) 蒜農留給自家使用的 5 台斤蒜頭應計入 GNI
- (C) 林書豪在美國職籃的薪資會列入我國的人均 GDP
- (D) 若工廠生產產品時會製造汙染，就一定會使 GDP 減少

58. WTO 經貿組織採取多邊主義，在運作上並輔以許多原則。下列有關 WTO 各項原則的敘述，何者正確？

- (A) 多邊主義：強調會員國應多跟他國進行貿易，促進經濟發展
- (B) 國民待遇原則：一國對於與之貿易國最優惠的待遇必須一視同仁
- (C) 關稅減讓原則：要求會員國在行使貿易限制上應以關稅為主，且須朝減讓方向努力
- (D) 最惠國待遇原則：就是指外國商品進入本國國境後，即可享受與本國產品相同待遇

59. 近年來，因應環保觀念的興起，民眾只要自備環保杯或是餐盒，部分店家會提供折扣或加量等獎勵措施。下列何者最能用來說明上述店家做法所達成的效果？

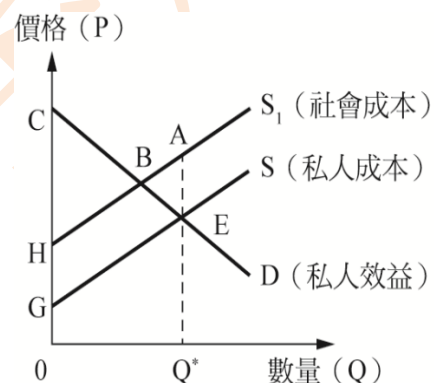
- (A) 將外部效益內部化
- (B) 增加店家外部成本
- (C) 可減少搭便車問題
- (D) 使資訊更公開透明

60. 目前國人大多是向有線電視業者簽約繳費，使收視可以有眾多頻道供選擇，所有收視戶都不會因為其他住戶收看節目，而導致自家無法收看頻道的情況。此外，業者也提供付費寬頻網路的服務，但卻經常發生尖峰用網時段，用戶網速過慢的窘境。若從財貨的分類來檢視上述「有線電視頻道」與「寬頻網路」的特性，分別應屬於下列何者？

- (A) 純私有財；準私有財
- (B) 準私有財；純私有財
- (C) 純公共財；準私有財
- (D) 準公共財；純私有財

61. 政府對於市場機能發生如右圖（六）之「外部效果」時，最有可能採取哪種干預，以便合理且有效的達到管制目的？

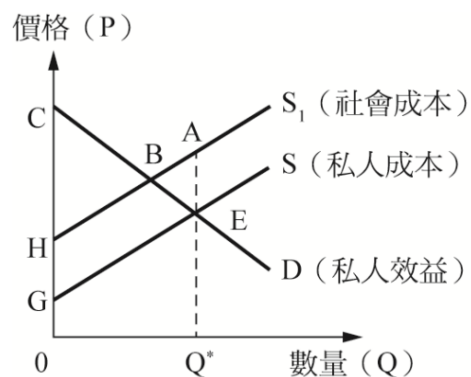
- (A) 直接管制消費者的消費數量以減少其損害
- (B) 補貼廠商讓其有減少產生外部效果的誘因
- (C) 增加人民部分稅收用以鼓勵外部效果增加
- (D) 對於會產生外部成本的生產者依數量課稅



圖（六）

62. 依據右圖（七）資料分析，當政府採取相應對的政策干預市場時，下列對於社會整體福利的影響結果，何者正確？

- (A) 政府干預前，社會福利為 ΔBCH
- (B) 政府干預前，梯形 $BHGE$ 是淨損失
- (C) 政府干預後，社會福利為 ΔBCH
- (D) 政府干預後，會有 ΔABE 的淨損失



圖（七）

63. 過去公費流感疫苗施打對象僅限於 6 個月以上 2 歲以下幼兒及 65 歲以上的老年人，現在政府為了預防流感疫情擴大，將施打對象擴及 6 個月以下嬰兒的父母、幼兒園托育人員及托育機構專業人員。下列何者最能描述上述政府的做法？

- (A) 擴大對弱勢者的照顧，避免社會階層複製
- (B) 施打公費流感疫苗，落實健康與醫療照護
- (C) 避免傳染病大流行，強化社會規範的約束
- (D) 擴大施打的對象，也顯示文化的多元面向

64. 右圖（八）是網路上某位女性業務員的一則文章。根據內容判斷，下列何種概念最足以描述文中女性業務員面對抉擇的處境？

- (A) 家務分工的衝突
- (B) 角色期望的衝突
- (C) 社會互動的衝突
- (D) 社會文化的衝突

現代職業婦女除了面對工作的壓力，還得擔負家庭管理和養兒育女的重責大任。因此常常在下班時間面臨以下抉擇：「要和主管一起去陪客戶應酬，還是回家幫小孩溫習功課？」

圖（八）

65. 平平上網蒐集了幾則新聞報導，並與《社會福利政策綱領》之內涵進行配對，如下表（七）所示。根據內容判斷，何者正確？

表（七）

項目	新聞報導	社會福利政策
(A)	「一例一休」新制上路，勞工休息日出勤加班費採加成給付	社會津貼
(B)	政府為幫助青年成家，陸續在多處打造「青年社會住宅示範社區」	社區營造
(C)	2018 年起，勞保老年年金調高法定的請領年齡，滿 61 歲才具有請領資格	福利服務
(D)	衛生福利部補助臺中醫院成立全國首家「全責式醫療型老人日間照護中心」	健康與醫療照護

66. 某國有「童婚」傳統，許多未滿 15 歲少女成為父母財產，被迫結婚而失去受教育機會。近年來國際人權團體批評此傳統剝奪女孩受教權，違反國際人權公約，因此屢向該國施壓，要求立法禁止，卻遭到該國政府反彈，呼籲外界應尊重其傳統文化。從「人權保障觀點」檢視前述國際人權團體的作為，下列何項看法最適當？

- (A) 人權公約尊重各國傳統，但童婚現象違反基本人權，超越文化尊重原則
- (B) 人權團體雖然追求基本人權保障，但仍應先尊重各國主權不可干涉內政
- (C) 舊式文化與進步的人權精神有違，不符世界的價值潮流，必須加以破除
- (D) 人權團體雖秉持普世價值，但仍須尊重各國國情，接受社會的文化差異

67. 日本新版《支付服務法》於 2017 年 4 月 1 日起生效，比特幣開始成為合法的支付方式。隨著新法的實施，除了提振數位貨幣市場，也扭轉一般人認為比特幣交易的功能都是在投機及避險的觀念，並漸漸認可它是一種更安全的支付方式。若僅就選項敘述判斷社會變遷的意涵，下列何者最符合上述例子的變遷模式？

- (A) 捷運的興建，讓民眾改變出門一定要騎車或開車的觀念
- (B) 政府制定《家庭暴力防治法》，打破「法不入家門」的迷思
- (C) 受到環保意識高漲的影響，業者將回收的寶特瓶製成環保再生衣物
- (D) 因為食品受到塑化劑的汙染，促使政府修改《食品安全衛生管理法》

68. 某甲在其報告的簡報中放置了右表（八）資料，依表中資料判斷，本頁簡報內容最可能是在探討下列何項主題？

表（八）

民眾從各地自行設立 網站獨立發聲	臺灣的南方電子報、 苦勞網
民眾擔任公民記者報 導各地重要訊息	公視的 People Post 公 民新聞平臺

- (A) 媒體公共角色與守望功能式微
- (B) 閱聽人的媒體近用與媒體監督
- (C) 媒體影響閱聽人認知的理由與方式
- (D) 新聞產製常受市場與媒體立場影響

69. 阿梅到歐洲旅行，發現臺灣飲品珍珠奶茶，在歐洲都受到熱烈歡迎，在飲品店中常見人手一杯，但其名稱卻不太一樣，價格也不低，如圖（九）。對於上述台灣珍珠奶茶在歐洲的流行情況來看，下列何者最能用來描述其現象？

一杯 3~5 歐元	
1. Boba milk tea	（是從波霸奶茶翻過來的）
2. Pearl milk tea	（是從珍珠奶茶翻過來的）
3. Tapioca milk tea	（是從粉圓奶茶翻過來的）

- (A) 全球化造成了文化趨同，衝擊文化多樣性
- (B) 在地文化進行文化調適，形成全球在地化
- (C) 以本土文化為立足點，發展全球化的連結
- (D) 採借全球文化的優點，加深文化的本土化

圖（九）

70. 我國某地方政府為了幫助傳統文化產業重新注入發展的活力，與「群眾募資平臺」合作，提供網路平台讓經營各項傳統文化產業的老店，在網站上展示與宣傳自我的創意經營提案，藉以吸引並籌募支持者的小額捐款，集結創意與眾人之力，再現傳統文化風采。根據上文，下列何者最能用來說明上述政府政策的內涵？

- (A) 以政府金錢補助發展文化
- (B) 檢視文化內涵以去蕪存菁
- (C) 以創意方式保存文化資產
- (D) 以傳播媒體籌募政府預算